


Mes petits rituels - semaine / jour /



- Dans la phrase ci-dessous, souligne le sujet et le verbe.

Aujourd'hui, les élèves de cm1-cm2 découvrent les petits rituels.

- Pose et calcule : $9\,543 + 3\,586$
- Lis le texte et réponds à la question.
Surligne les indices du texte.



Elle partit dans l'arrière-boutique chercher la boîte
peinture 42 qui contenait l'autre basket bleue que tu voulais acheter. Où es-tu ?

.....


Mes petits rituels - semaine / jour /



- Dans la phrase ci-dessous, souligne le sujet et le verbe.

Aujourd'hui, les élèves de cm1-cm2 découvrent les petits rituels.

- Pose et calcule : $9\,543 + 3\,586$
- Lis le texte et réponds à la question.
Surligne les indices du texte.



Elle partit dans l'arrière-boutique chercher la boîte
peinture 42 qui contenait l'autre basket bleue que tu voulais acheter. Où es-tu ?

.....

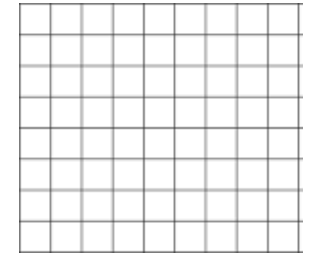
Mes petits rituels - semaine / jour /



- Dans la phrase ci-dessous, souligne le sujet et le verbe.

Aujourd'hui, les élèves de cm1-cm2 découvrent les petits rituels.

- Pose et calcule : $9\,543 + 3\,586$
- Lis le texte et réponds à la question. Surligne les indices du texte.



Elle partit dans l'arrière-boutique chercher la boîte
peinture 42 qui contenait l'autre basket bleue que tu voulais acheter. Où es-tu ?

.....


Mes petits rituels - semaine / jour /



- Dans la phrase ci-dessous, souligne le sujet et le verbe.

Aujourd'hui, les élèves de cm1-cm2 découvrent les petits rituels.

- Pose et calcule : $9\,543 + 3\,586$
- Lis le texte et réponds à la question.
Surligne les indices du texte.



Elle partit dans l'arrière-boutique chercher la boîte
peinture 42 qui contenait l'autre basket bleue que tu voulais acheter. Où es-tu ?

.....

Mes petits rituels - semaine 1 jour 2



- Mets la phrase suivante au pluriel.

Le beau hibou hulule depuis la branche.

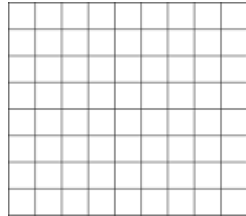
- Écris le nombre suivant, neuf-mille-sept-cent-soixante-quinze

en chiffres :

décompose-le :

- Résous le problème suivant.

J'avais 2 954 cartes dans mon album. Mon oncle me donne le sien qui en contient 3 412. Combien ai-je de cartes maintenant ?



Mes petits rituels - semaine 1 jour 2



- Mets la phrase suivante au pluriel.

Le beau hibou hulule depuis la branche.


- Écris le nombre suivant, neuf-mille-sept-cent-soixante-quinze

en chiffres :

décompose-le :

- Résous le problème suivant.

J'avais 2 954 cartes dans mon album. Mon oncle me donne le sien qui en contient 3 412. Combien ai-je de cartes maintenant ?



Mes petits rituels - semaine 1 jour 2



- Mets la phrase suivante au pluriel.

Le beau hibou hulule depuis la branche.

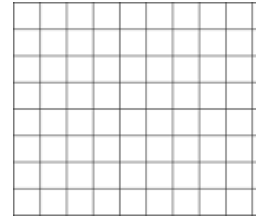
- Écris le nombre suivant, neuf-mille-sept-cent-soixante-quinze

en chiffres :

décompose-le :

- Résous le problème suivant.

J'avais 2 954 cartes dans mon album. Mon oncle me donne le sien qui en contient 3 412. Combien ai-je de cartes maintenant ?



Mes petits rituels - semaine 1 jour 2



- Mets la phrase suivante au pluriel.

Le beau hibou hulule depuis la branche.


- Écris le nombre suivant, neuf-mille-sept-cent-soixante-quinze

en chiffres :

décompose-le :

- Résous le problème suivant.

J'avais 2 954 cartes dans mon album. Mon oncle me donne le sien qui en contient 3 412. Combien ai-je de cartes maintenant ?



Mes petits rituels - semaine 1 jour 3



- Indique la classe grammaticale (nature : nom, adj, verbe ...) des mots suivants.

le :

animal :

géante :

- Conjugué le verbe danser au présent (de l'indicatif)

Je

Tu

Il

Mina et toi

- Complète la frise et colorie-la (facultatif)



Mes petits rituels - semaine 1 jour 3



- Indique la classe grammaticale (nature : nom, adj, verbe ...) des mots suivants.

le :

animal :

géante :

- Conjugué le verbe danser au présent (de l'indicatif)

Je

Tu

Il

Mina et toi

- Complète la frise et colorie-la (facultatif)



Mes petits rituels - semaine 1 jour 3



- Indique la classe grammaticale (nature : nom, adj, verbe ...) des mots suivants.

le :

animal :

géante :

- Conjugué le verbe danser au présent (de l'indicatif)

Je

Tu

Il

Mina et toi

- Complète la frise et colorie-la (facultatif)



Mes petits rituels - semaine 1 jour 3



- Indique la classe grammaticale (nature : nom, adj, verbe ...) des mots suivants.

le :

animal :

géante :

- Conjugué le verbe danser au présent (de l'indicatif)

Je

Tu

Il

Mina et toi

- Complète la frise et colorie-la (facultatif)




Mes petits rituels - semaine 2 jour 1



- Dans la phrase ci-dessous, souligne le sujet et le verbe.

Les joueurs de tennis s'entraînent chaque jour durant des heures.

- Pose et calcule : $9\,219 - 5\,178$
- Lis le texte et réponds à la question. Surligne les indices du texte.



Gianni surveille attentivement tous les véhicules passant devant lui. Il n'hésite pas à interpeler un conducteur imprudent s'il commet une infraction : refus de priorité, vitesse excessive ... **Qui est-il ?**.....


Mes petits rituels - semaine 2 jour 1



- Dans la phrase ci-dessous, souligne le sujet et le verbe.

Les joueurs de tennis s'entraînent chaque jour durant des heures.

- Pose et calcule : $9\,219 - 5\,178$
- Lis le texte et réponds à la question. Surligne les indices du texte.



Gianni surveille attentivement tous les véhicules passant devant lui. Il n'hésite pas à interpeler un conducteur imprudent s'il commet une infraction : refus de priorité, vitesse excessive ... **Qui est-il ?**.....


Mes petits rituels - semaine 2 jour 1



- Dans la phrase ci-dessous, souligne le sujet et le verbe.

Les joueurs de tennis s'entraînent chaque jour durant des heures.

- Pose et calcule : $9\,219 - 5\,178$
- Lis le texte et réponds à la question. Surligne les indices du texte.



Gianni surveille attentivement tous les véhicules passant devant lui. Il n'hésite pas à interpeler un conducteur imprudent s'il commet une infraction : refus de priorité, vitesse excessive ... **Qui est-il ?**.....


Mes petits rituels - semaine 2 jour 1



- Dans la phrase ci-dessous, souligne le sujet et le verbe.

Les joueurs de tennis s'entraînent chaque jour durant des heures.

- Pose et calcule : $9\,219 - 5\,178$
- Lis le texte et réponds à la question. Surligne les indices du texte.



Gianni surveille attentivement tous les véhicules passant devant lui. Il n'hésite pas à interpeler un conducteur imprudent s'il commet une infraction : refus de priorité, vitesse excessive ... **Qui est-il ?**.....

Mes petits rituels - semaine 2 jour 2

- Mets la phrase suivante au singulier.

Mes petits-fils sont en vacances dans les hautes montagnes.

- Écris le nombre suivant : vingt-mille-trente-huit

en chiffres :

décompose-le :

- Résous le problème suivant.

Dans un stade, il y a 8 500 places. 2896 places sont occupées. Combien de places sont inoccupées ?

Mes petits rituels - semaine 2 jour 2

- Mets la phrase suivante au singulier.

Mes petits-fils sont en vacances dans les hautes montagnes.

- Écris le nombre suivant : vingt-mille-trente-huit

en chiffres :

décompose-le :

- Résous le problème suivant.

Dans un stade, il y a 8 500 places. 2896 places sont occupées. Combien de places sont inoccupées ?

Mes petits rituels - semaine 2 jour 2

- Mets la phrase suivante au singulier.

Mes petits-fils sont en vacances dans les hautes montagnes.

- Écris le nombre suivant : vingt-mille-trente-huit

en chiffres :

décompose-le :

- Résous le problème suivant.

Dans un stade, il y a 8 500 places. 2896 places sont occupées. Combien de places sont inoccupées ?

Mes petits rituels - semaine 2 jour 2

- Mets la phrase suivante au singulier.

Mes petits-fils sont en vacances dans les hautes montagnes.

- Écris le nombre suivant : vingt-mille-trente-huit

en chiffres :

décompose-le :

- Résous le problème suivant.

Dans un stade, il y a 8 500 places. 2896 places sont occupées. Combien de places sont inoccupées ?

Mes petits rituels - semaine 2 jour 3

- Indique la classe grammaticale (nature : nom, vb, adj, dét) des mots suivants.

dans : notre :

cartable :

- Conjugué le verbe bondir au présent (de l'indicatif)

Nous Tu

Vous Lilas

- Complète la frise et colorie-la (facultatif)



Mes petits rituels - semaine 2 jour 3

- Indique la classe grammaticale (nature : nom, vb, adj, dét) des mots suivants.

dans : notre :

cartable :

- Conjugué le verbe bondir au présent (de l'indicatif)

Nous Tu

Vous Lilas

- Complète la frise et colorie-la (facultatif)



Mes petits rituels - semaine 2 jour 3

- Indique la classe grammaticale (nature : nom, vb, adj, dét) des mots suivants.

dans : notre :

cartable :

- Conjugué le verbe bondir au présent (de l'indicatif)

Nous Tu

Vous Lilas

- Complète la frise et colorie-la (facultatif)



Mes petits rituels - semaine 2 jour 3

- Indique la classe grammaticale (nature : nom, vb, adj, dét) des mots suivants.

dans : notre :

cartable :

- Conjugué le verbe bondir au présent (de l'indicatif)

Nous Tu

Vous Lilas

- Complète la frise et colorie-la (facultatif)



Mes petits rituels - semaine 3 jour 1




- Dans la phrase ci-dessous, souligne le sujet et le verbe.

Dans cette trousse se trouvent des crayons multicolores.

- Pose et calcule : 645×4
- Lis le texte et réponds à la question. Surligne les indices du texte.

Après avoir pris la clé, le garçon nous aida à transporter nos valises jusqu'à notre chambre. Où sommes-nous ?



Mes petits rituels - semaine 3 jour 1




- Dans la phrase ci-dessous, souligne le sujet et le verbe.

Dans cette trousse se trouvent des crayons multicolores.

- Pose et calcule : 645×4
- Lis le texte et réponds à la question. Surligne les indices du texte.

Après avoir pris la clé, le garçon nous aida à transporter nos valises jusqu'à notre chambre. Où sommes-nous ?



Mes petits rituels - semaine 3 jour 1




- Dans la phrase ci-dessous, souligne le sujet et le verbe.

Dans cette trousse se trouvent des crayons multicolores.

- Pose et calcule : 645×4
- Lis le texte et réponds à la question. Surligne les indices du texte.

Après avoir pris la clé, le garçon nous aida à transporter nos valises jusqu'à notre chambre. Où sommes-nous ?



Mes petits rituels - semaine 3 jour 1




- Dans la phrase ci-dessous, souligne le sujet et le verbe.

Dans cette trousse se trouvent des crayons multicolores.

- Pose et calcule : 645×4
- Lis le texte et réponds à la question. Surligne les indices du texte.

Après avoir pris la clé, le garçon nous aida à transporter nos valises jusqu'à notre chambre. Où sommes-nous ?



Mes petits rituels - semaine 3 jour 2

- Mets la phrase suivante au futur.

Le jeune garçon gagne la course automobile.

Demain,

- Écris le nombre suivant : deux-cent-quarante-mille-cent-vingt-cinq en chiffres :

décompose-le :

- Résous le problème suivant.

Le lego master utilise 3500 cubes pour son dinosaure et 2024 pour le volcan. Combien a-t-il utilisé de cubes en tout ?

Mes petits rituels - semaine 3 jour 2

- Mets la phrase suivante au futur.

Le jeune garçon gagne la course automobile.

Demain,

- Écris le nombre suivant : deux-cent-quarante-mille-cent-vingt-cinq en chiffres :

décompose-le :

- Résous le problème suivant.

Le lego master utilise 3500 cubes pour son dinosaure et 2024 pour le volcan. Combien a-t-il utilisé de cubes en tout ?

Mes petits rituels - semaine 3 jour 2

- Mets la phrase suivante au futur.

Le jeune garçon gagne la course automobile.

Demain,

- Écris le nombre suivant : deux-cent-quarante-mille-cent-vingt-cinq en chiffres :

décompose-le :

- Résous le problème suivant.

Le lego master utilise 3500 cubes pour son dinosaure et 2024 pour le volcan. Combien a-t-il utilisé de cubes en tout ?

Mes petits rituels - semaine 3 jour 2

- Mets la phrase suivante au futur.

Le jeune garçon gagne la course automobile.

Demain,

- Écris le nombre suivant : deux-cent-quarante-mille-cent-vingt-cinq en chiffres :

décompose-le :

- Résous le problème suivant.

Le lego master utilise 3500 cubes pour son dinosaure et 2024 pour le volcan. Combien a-t-il utilisé de cubes en tout ?

Mes petits rituels - semaine 3 jour 3

- Indique la classe grammaticale (nature : N, V, adj, det) des mots suivants.

manger : cette :

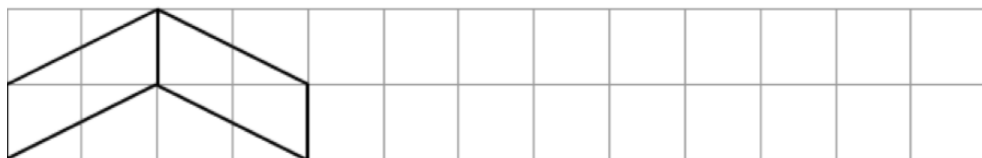
grandiose :

- Conjugué le verbe danser (CM1) ou changer (CM2) à l'imparfait.

Nous Elle

Je Victor et toi

- Complète la frise et colorie-la (facultatif)



Mes petits rituels - semaine 3 jour 3

- Indique la classe grammaticale (nature : N, V, adj, det) des mots suivants.

manger : cette :

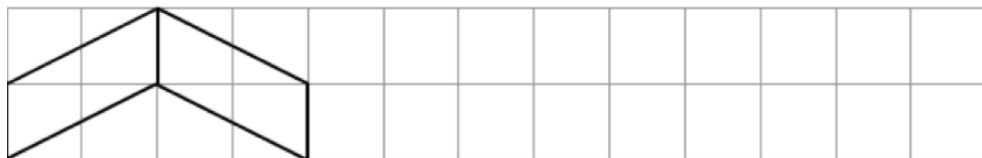
grandiose :

- Conjugué le verbe danser (CM1) ou changer (CM2) à l'imparfait.

Nous Elle

Je Victor et toi

- Complète la frise et colorie-la (facultatif)



Mes petits rituels - semaine 3 jour 3

- Indique la classe grammaticale (nature : N, V, adj, det) des mots suivants.

manger : cette :

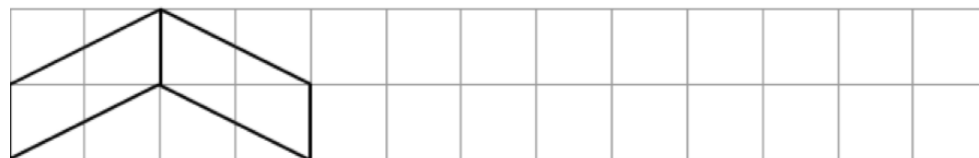
grandiose :

- Conjugué le verbe danser (CM1) ou changer (CM2) à l'imparfait.

Nous Elle

Je Victor et toi

- Complète la frise et colorie-la (facultatif)



Mes petits rituels - semaine 3 jour 3

- Indique la classe grammaticale (nature : N, V, adj, det) des mots suivants.

manger : cette :

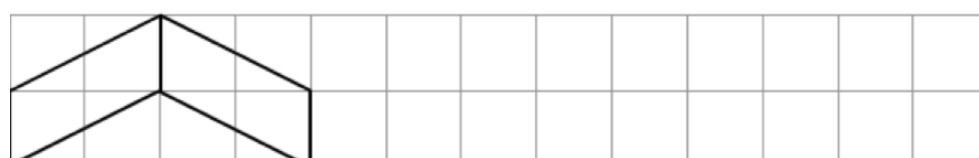
grandiose :

- Conjugué le verbe danser (CM1) ou changer (CM2) à l'imparfait.

Nous Elle

Je Victor et toi

- Complète la frise et colorie-la (facultatif)



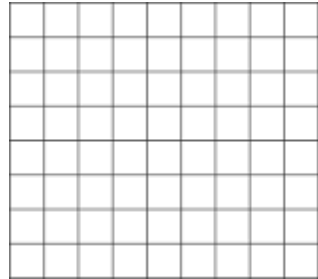
Mes petits rituels - semaine 4 jour 1



- Indique la fonction (sujet, verbe, complément circonstanciels ou d'objet) des différents groupes de mots.

Au 17^e siècle, le Roi Soleil vivait à Versailles.

- Pose et calcule :
niv 1 : 345×6 niv2 : 867×34



- Lis le texte et réponds à la question.
Surligne les indices du texte.

Quand le lampadaire de la rue s'éteignit
brutalement, on ne vit plus rien. **À quel moment sommes-nous ?**

.....


Mes petits rituels - semaine 4 jour 1



- Indique la fonction (sujet, verbe, complément circonstanciels ou d'objet) des différents groupes de mots.

Au 17^e siècle, le Roi Soleil vivait à Versailles.

- Pose et calcule :
niv 1 : 345×6 niv2 : 867×34



- Lis le texte et réponds à la question.
Surligne les indices du texte.

Quand le lampadaire de la rue s'éteignit
brutalement, on ne vit plus rien. **À quel moment sommes-nous ?**

.....

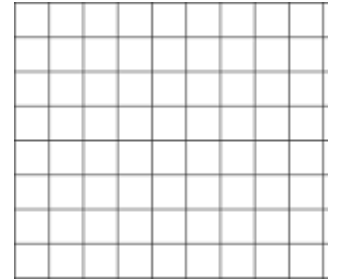
Mes petits rituels - semaine 4 jour 1



- Indique la fonction (sujet, verbe, complément circonstanciels ou d'objet) des différents groupes de mots.

Au 17^e siècle, le Roi Soleil vivait à Versailles.

- Pose et calcule :
niv 1 : 345×6 niv2 : 867×34



- Lis le texte et réponds à la question.
Surligne les indices du texte.

Quand le lampadaire de la rue s'éteignit
brutalement, on ne vit plus rien. **À quel moment sommes-nous ?**

.....


Mes petits rituels - semaine 4 jour 1



- Indique la fonction (sujet, verbe, complément circonstanciels ou d'objet) des différents groupes de mots.

Au 17^e siècle, le Roi Soleil vivait à Versailles.

- Pose et calcule :
niv 1 : 345×6 niv2 : 867×34



- Lis le texte et réponds à la question.
Surligne les indices du texte.

Quand le lampadaire de la rue s'éteignit
brutalement, on ne vit plus rien. **À quel moment sommes-nous ?**

.....

Mes petits rituels - semaine 4 jour 2

- Mets la phrase suivante au pluriel (niv 1) et au présent (niv 2).


Cet animal était très féroce.

- Écris le nombre suivant : trois-millions-deux-cent-trente-mille-douze en chiffres :

décompose-le :

- Résous le problème suivant.

Un jardinier a planté des carottes dans un jardin public. Il y a 25 rangées de 140 carottes. **Combien a-t-il planté de carottes ?**.....



Mes petits rituels - semaine 4 jour 2

- Mets la phrase suivante au pluriel (niv 1) et au futur (niv 2).


Cet animal était très féroce.

- Écris le nombre suivant : trois-millions-deux-cent-trente-mille-douze en chiffres :

décompose-le :

- Résous le problème suivant.

Un jardinier a planté des carottes dans un jardin public. Il y a 25 rangées de 140 carottes. **Combien a-t-il planté de carottes ?**.....



Mes petits rituels - semaine 4 jour 2

- Mets la phrase suivante au pluriel (niv 1) et au futur (niv 2).


Cet animal était très féroce.

- Écris le nombre suivant : trois-millions-deux-cent-trente-mille-douze en chiffres :

décompose-le :

- Résous le problème suivant.

Un jardinier a planté des carottes dans un jardin public. Il y a 25 rangées de 140 carottes. **Combien a-t-il planté de carottes ?**.....



Mes petits rituels - semaine 4 jour 2

- Mets la phrase suivante au pluriel (niv 1) et au futur (niv 2).


Cet animal était très féroce.

- Écris le nombre suivant : trois-millions-deux-cent-trente-mille-douze en chiffres :

décompose-le :

- Résous le problème suivant.

Un jardinier a planté des carottes dans un jardin public. Il y a 25 rangées de 140 carottes. **Combien a-t-il planté de carottes ?**.....



Mes petits rituels - semaine 4 jour 3

- Indique la classe grammaticale (nature :n, vb, dét, adj, prep)

à : et :

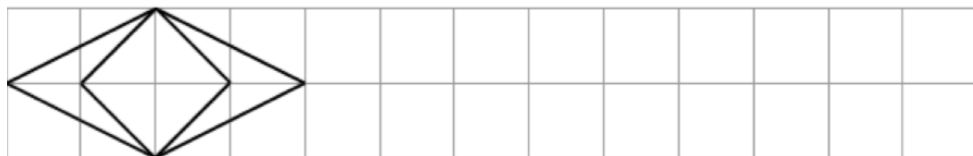
plante :

- Conjugue le verbe dire au présent

Nous Elles

Tu Toi et toi

- Complète la frise et colorie-la (facultatif)



Mes petits rituels - semaine 4 jour 3

- Indique la classe grammaticale (nature :n, vb, dét, adj, prep)

à : et :

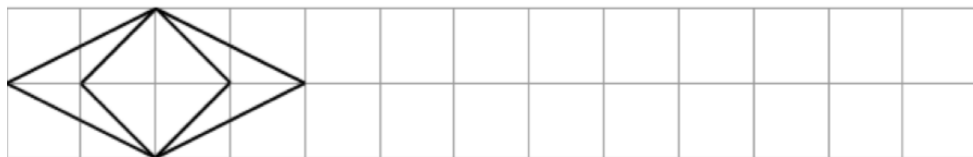
plante :

- Conjugue le verbe dire au présent

Nous Elles

Tu Toi et toi

- Complète la frise et colorie-la (facultatif)



Mes petits rituels - semaine 4 jour 3

- Indique la classe grammaticale (nature :n, vb, dét, adj, prep)

à : et :

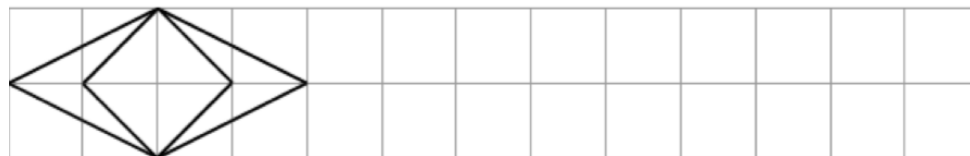
plante :

- Conjugue le verbe dire au présent

Nous Elles

Tu Toi et toi

- Complète la frise et colorie-la (facultatif)



Mes petits rituels - semaine 4 jour 3

- Indique la classe grammaticale (nature :n, vb, dét, adj, prep)

à : et :

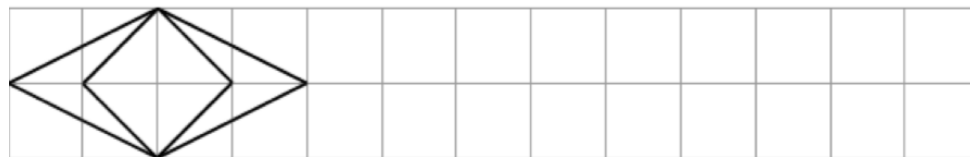
plante :

- Conjugue le verbe dire au présent

Nous Elles

Tu Toi et toi

- Complète la frise et colorie-la (facultatif)




Mes petits rituels - semaine 5 jour 1



- Indique la fonction des différents groupes de mots.

La cuisinière, mixe une soupe bouillante.

- Pose et calcule : niv 1 : 432×5
niv 2 : 654×56
- Lis le texte et réponds à la question. Surligne les indices du texte.



Margot est contente, sa toile est bientôt finie, là, sur le plafond du grenier. Elle va bientôt pouvoir faire plein de petits prisonniers. **Qui est Margot ?**


Mes petits rituels - semaine 5 jour 1



- Indique la fonction des différents groupes de mots.

La cuisinière, mixe une soupe bouillante.

- Pose et calcule : niv 1 : 432×5
niv 2 : 654×56
- Lis le texte et réponds à la question. Surligne les indices du texte.



Margot est contente, sa toile est bientôt finie, là, sur le plafond du grenier. Elle va bientôt pouvoir faire plein de petits prisonniers. **Qui est Margot ?**


Mes petits rituels - semaine 5 jour 1



- Indique la fonction des différents groupes de mots.

La cuisinière, mixe une soupe bouillante.

- Pose et calcule : niv 1 : 432×5
niv 2 : 654×56
- Lis le texte et réponds à la question. Surligne les indices du texte.



Margot est contente, sa toile est bientôt finie, là, sur le plafond du grenier. Elle va bientôt pouvoir faire plein de petits prisonniers. **Qui est Margot ?**


Mes petits rituels - semaine 5 jour 1



- Indique la fonction des différents groupes de mots.

La cuisinière, mixe une soupe bouillante.

- Pose et calcule : niv 1 : 432×5
niv 2 : 654×56
- Lis le texte et réponds à la question. Surligne les indices du texte.



Margot est contente, sa toile est bientôt finie, là, sur le plafond du grenier. Elle va bientôt pouvoir faire plein de petits prisonniers. **Qui est Margot ?**

Mes petits rituels - semaine 5 jour 2



- Réécris en remplaçant « je » par « vous »

Je fais toujours attention à mes affaires.


- Écris le nombre suivant : quatorze-millions-treize-mille-six-cent-trente en chiffres :

décompose-le :

- Résous le problème suivant.

Clément mesure 1 020 cm. Lola mesure 812 cm.

De combien de centimètres Lola est-elle plus petite ?



Mes petits rituels - semaine 5 jour 2



- Réécris en remplaçant « je » par « vous »

Je fais toujours attention à mes affaires.


- Écris le nombre suivant : quatorze-millions-treize-mille-six-cent-trente en chiffres :

décompose-le :

- Résous le problème suivant.

Clément mesure 1 020 cm. Lola mesure 812 cm.

De combien de centimètres Lola est-elle plus petite ?



Mes petits rituels - semaine 5 jour 2



- Réécris en remplaçant « je » par « vous »

Je fais toujours attention à mes affaires.


- Écris le nombre suivant : quatorze-millions-treize-mille-six-cent-trente en chiffres :

décompose-le :

- Résous le problème suivant.

Clément mesure 1 020 cm. Lola mesure 812 cm.

De combien de centimètres Lola est-elle plus petite ?



Mes petits rituels - semaine 5 jour 2



- Réécris en remplaçant « je » par « vous »

Je fais toujours attention à mes affaires.


- Écris le nombre suivant : quatorze-millions-treize-mille-six-cent-trente en chiffres :

décompose-le :

- Résous le problème suivant.

Clément mesure 1 020 cm. Lola mesure 812 cm.

De combien de centimètres Lola est-elle plus petite ?



Mes petits rituels - semaine 5 jour 3

- Indique la classe grammaticale (nature : N, det, adj, prép) des mots suivants.

Le Mans : sous :

les :

- Conjugué le verbe voir au présent

Je Rien

Vous Ils

- Complète la frise et colorie-la (facultatif)



Mes petits rituels - semaine 5 jour 3

- Indique la classe grammaticale (nature : N, det, adj, prép) des mots suivants.

Le Mans : sous :

les :

- Conjugué le verbe voir au présent

Je Rien

Vous Ils

- Complète la frise et colorie-la (facultatif)



Mes petits rituels - semaine 5 jour 3

- Indique la classe grammaticale (nature : N, det, adj, prép) des mots suivants.

Le Mans : sous :

les :

- Conjugué le verbe voir au présent

Je Rien

Vous Ils

- Complète la frise et colorie-la (facultatif)



Mes petits rituels - semaine 5 jour 3

- Indique la classe grammaticale (nature : N, det, adj, prép) des mots suivants.

Le Mans : sous :

les :

- Conjugué le verbe voir au présent

Je Rien

Vous Ils

- Complète la frise et colorie-la (facultatif)




Mes petits rituels - semaine 6 jour 1



- Indique la fonction (sujet, verbe, complément circonstanciel ou objet) des différents groupes de mots.

Dans cette grotte, les hommes préhistoriques créent des fresques splendides.

- Pose et calcule : niv1 : $6\,578 + 987 + 456$
niv2 : $675,89 + 543,8$



- Lis le texte et réponds à la question. Surligne les indices du texte.

Autrefois, cette tour était utilisée pour enfermer les criminelles du royaume. C'est pourquoi on l'appelle la tour des Captives.

Qui étaient enfermés : des filles ou des garçons ?.....


Mes petits rituels - semaine 6 jour 1



- Indique la fonction (sujet, verbe, complément circonstanciel ou objet) des différents groupes de mots.

Dans cette grotte, les hommes préhistoriques créent des fresques splendides.

- Pose et calcule : niv1 : $6\,578 + 987 + 456$
niv2 : $675,89 + 543,8$



- Lis le texte et réponds à la question. Surligne les indices du texte.

Autrefois, cette tour était utilisée pour enfermer les criminelles du royaume. C'est pourquoi on l'appelle la tour des Captives.

Qui étaient enfermés : des filles ou des garçons ?.....


Mes petits rituels - semaine 6 jour 1



- Indique la fonction (sujet, verbe, complément circonstanciel ou objet) des différents groupes de mots.

Dans cette grotte, les hommes préhistoriques créent des fresques splendides.

- Pose et calcule : niv1 : $6\,578 + 987 + 456$
niv2 : $675,89 + 543,8$



- Lis le texte et réponds à la question. Surligne les indices du texte.

Autrefois, cette tour était utilisée pour enfermer les criminelles du royaume. C'est pourquoi on l'appelle la tour des Captives.

Qui étaient enfermés : des filles ou des garçons ?.....


Mes petits rituels - semaine 6 jour 1



- Indique la fonction (sujet, verbe, complément circonstanciel ou objet) des différents groupes de mots.

Dans cette grotte, les hommes préhistoriques créent des fresques splendides.

- Pose et calcule : niv1 : $6\,578 + 987 + 456$
niv2 : $675,89 + 543,8$



- Lis le texte et réponds à la question. Surligne les indices du texte.

Autrefois, cette tour était utilisée pour enfermer les criminelles du royaume. C'est pourquoi on l'appelle la tour des Captives.

Qui étaient enfermés : des filles ou des garçons ?.....

Mes petits rituels - semaine 6 jour 2



- Mets la phrase suivante au présent.

Les élèves prenaient le bus chaque matin .


- Écris le nombre suivant : cent-millions-vingt-quatre-mille-cinq.

en chiffres :

décompose-le :

- Résous le problème suivant.

Pour payer sa ps 5, monsieur Dupont a donné 2 billets de 200 €, 1 billet de 50 €, 2 billets de 20€, et un billet de 5 €. Quel est le prix de la ps 5 ?



Mes petits rituels - semaine 6 jour 2



- Mets la phrase suivante au présent.

Les élèves prenaient le bus chaque matin .


- Écris le nombre suivant : cent-millions-vingt-quatre-mille-cinq.

en chiffres :

décompose-le :

- Résous le problème suivant.

Pour payer sa ps 5, monsieur Dupont a donné 2 billets de 200 €, 1 billet de 50 €, 2 billets de 20€, et un billet de 5 €. Quel est le prix de la ps 5 ?



Mes petits rituels - semaine 6 jour 2



- Mets la phrase suivante au présent.

Les élèves prenaient le bus chaque matin .


- Écris le nombre suivant : cent-millions-vingt-quatre-mille-cinq.

en chiffres :

décompose-le :

- Résous le problème suivant.

Pour payer sa ps 5, monsieur Dupont a donné 2 billets de 200 €, 1 billet de 50 €, 2 billets de 20€, et un billet de 5 €. Quel est le prix de la ps 5 ?



Mes petits rituels - semaine 6 jour 2



- Mets la phrase suivante au présent.

Les élèves prenaient le bus chaque matin .


- Écris le nombre suivant : cent-millions-vingt-quatre-mille-cinq.

en chiffres :

décompose-le :

- Résous le problème suivant.

Pour payer sa ps 5, monsieur Dupont a donné 2 billets de 200 €, 1 billet de 50 €, 2 billets de 20€, et un billet de 5 €. Quel est le prix de la ps 5 ?



Mes petits rituels - semaine 6 jour 3

- Indique la classe grammaticale (nature : n, adj, det, prep ...) des mots suivants.

et : croustillant :

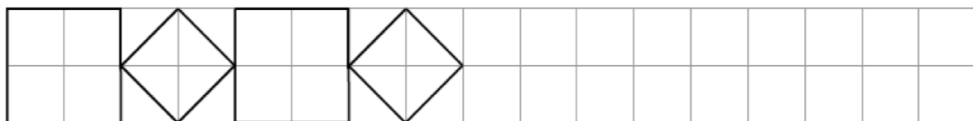
finir :

- Conjugué le verbe chanter (niv 1) et avancer (niv 2) à l'imparfait

Tu Elle

Nous Vous

- Complète la frise et colorie-la (facultatif)



Mes petits rituels - semaine 6 jour 3

- Indique la classe grammaticale (nature : n, adj, det, prep ...) des mots suivants.

et : croustillant :

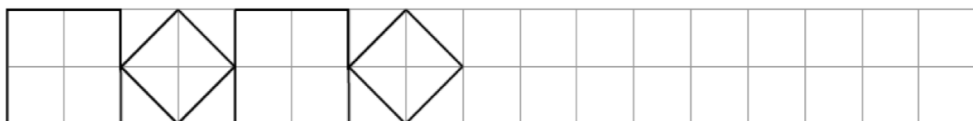
finir :

- Conjugué le verbe chanter (niv 1) et avancer (niv 2) à l'imparfait

Tu Elle

Nous Vous

- Complète la frise et colorie-la (facultatif)



Mes petits rituels - semaine 6 jour 3

- Indique la classe grammaticale (nature : n, adj, det, prep ...) des mots suivants.

et : croustillant :

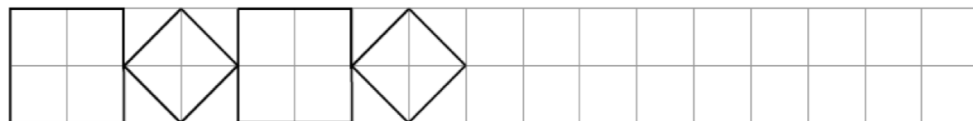
finir :

- Conjugué le verbe chanter (niv 1) et avancer (niv 2) à l'imparfait

Tu Elle

Nous Vous

- Complète la frise et colorie-la (facultatif)



Mes petits rituels - semaine 6 jour 3

- Indique la classe grammaticale (nature : n, adj, det, prep ...) des mots suivants.

et : croustillant :

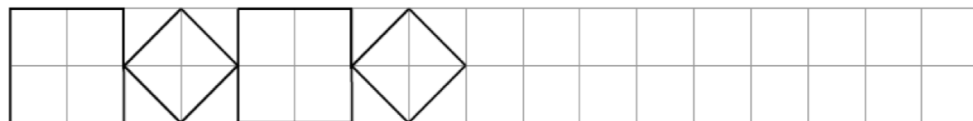
finir :

- Conjugué le verbe chanter (niv 1) et avancer (niv 2) à l'imparfait

Tu Elle

Nous Vous

- Complète la frise et colorie-la (facultatif)




Mes petits rituels - semaine 7 jour 1



- Indique la fonction (sujet, complément circonstanciel ou d'objet) des différents groupes de mots.

Aux Etats-Unis, Halloween se déroule le 31 octobre.

- Pose et calcule : niv 1 : $6509 - 5447$
niv 2 : $650,9 - 544,7$



- Lis le texte et réponds à la question. Surligne les indices du texte.

« Quand j'aurai fini mon château de sable, j'irai me rafraîchir et sauter dans les vagues ! » **Où se passe cette scène ?**


Mes petits rituels - semaine 7 jour 1



- Indique la fonction (sujet, complément circonstanciel ou d'objet) des différents groupes de mots.

Aux Etats-Unis, Halloween se déroule le 31 octobre.

- Pose et calcule : niv 1 : $6509 - 5447$
niv 2 : $650,9 - 544,7$



- Lis le texte et réponds à la question. Surligne les indices du texte.

« Quand j'aurai fini mon château de sable, j'irai me rafraîchir et sauter dans les vagues ! » **Où se passe cette scène ?**


Mes petits rituels - semaine 7 jour 1



- Indique la fonction (sujet, complément circonstanciel ou d'objet) des différents groupes de mots.

Aux Etats-Unis, Halloween se déroule le 31 octobre.

- Pose et calcule : niv 1 : $6509 - 5447$
niv 2 : $650,9 - 544,7$



- Lis le texte et réponds à la question. Surligne les indices du texte.

« Quand j'aurai fini mon château de sable, j'irai me rafraîchir et sauter dans les vagues ! » **Où se passe cette scène ?**


Mes petits rituels - semaine 7 jour 1



- Indique la fonction (sujet, complément circonstanciel ou d'objet) des différents groupes de mots.

Aux Etats-Unis, Halloween se déroule le 31 octobre.

- Pose et calcule : niv 1 : $6509 - 5447$
niv 2 : $650,9 - 544,7$



- Lis le texte et réponds à la question. Surligne les indices du texte.

« Quand j'aurai fini mon château de sable, j'irai me rafraîchir et sauter dans les vagues ! » **Où se passe cette scène ?**

Mes petits rituels - semaine 7 jour 2

- Mets la phrase suivante au présent.

Vous direz « merci » aux parents de Théo.

.....

- Écris le nombre suivant : quatre-millions-vingt-trois.

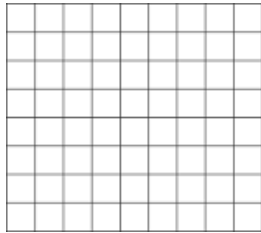
en chiffres :

décompose-le :

- Résous le problème suivant.

Il y a 28 élèves dans la classe de CE2. Le maître veut faire des équipes de 4 enfants. **Combien fait-il d'équipes ?**

.....



Mes petits rituels - semaine 7 jour 2

- Mets la phrase suivante au présent.

Vous direz « merci » aux parents de Théo.

.....

- Écris le nombre suivant : quatre-millions-vingt-trois.


en chiffres :

décompose-le :

- Résous le problème suivant.

Il y a 28 élèves dans la classe de CE2. Le maître veut faire des équipes de 4 enfants. **Combien fait-il d'équipes ?**

.....



Mes petits rituels - semaine 7 jour 2

- Mets la phrase suivante au présent.

Vous direz « merci » aux parents de Théo.

.....

- Écris le nombre suivant : quatre-millions-vingt-trois.


en chiffres :

décompose-le :

- Résous le problème suivant.

Il y a 28 élèves dans la classe de CE2. Le maître veut faire des équipes de 4 enfants. **Combien fait-il d'équipes ?**

.....



Mes petits rituels - semaine 7 jour 2

- Mets la phrase suivante au présent.

Vous direz « merci » aux parents de Théo.

.....

- Écris le nombre suivant : quatre-millions-vingt-trois.


en chiffres :

décompose-le :

- Résous le problème suivant.

Il y a 28 élèves dans la classe de CE2. Le maître veut faire des équipes de 4 enfants. **Combien fait-il d'équipes ?**

.....



Mes petits rituels - semaine 7 jour 3

- Indique la classe grammaticale (nature) des mots suivants.

tomate : ma :

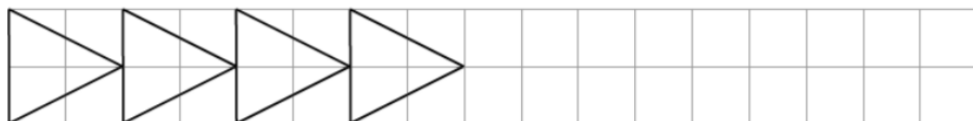
calme:

- Conjugué le verbe prendre au présent.

Tu Elle

Nous Les enfants

- Complète la frise et colorie-la (facultatif)



Mes petits rituels - semaine 7 jour 3

- Indique la classe grammaticale (nature) des mots suivants.

tomate : ma :

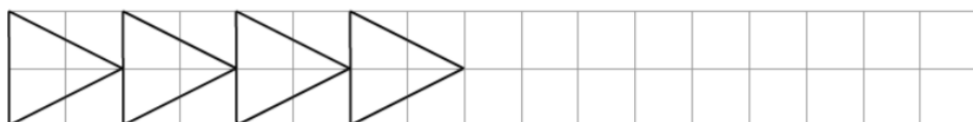
calme:

- Conjugué le verbe prendre au présent.

Tu Elle

Nous Les enfants

- Complète la frise et colorie-la (facultatif)



Mes petits rituels - semaine 7 jour 3

- Indique la classe grammaticale (nature) des mots suivants.

tomate : ma :

calme:

- Conjugué le verbe prendre au présent.

Tu Elle

Nous Les enfants

- Complète la frise et colorie-la (facultatif)



Mes petits rituels - semaine 7 jour 3

- Indique la classe grammaticale (nature) des mots suivants.

tomate : ma :

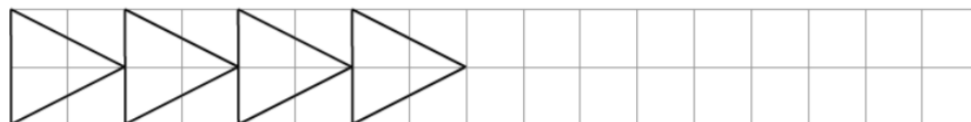
calme:

- Conjugué le verbe prendre au présent.

Tu Elle

Nous Les enfants

- Complète la frise et colorie-la (facultatif)




Mes petits rituels - semaine 8 jour 1



- Souligne et indique la fonction (sujet, complément circonstanciels, objet, verbe) des différents groupes de mots.

Tous les vendredis, les élèves font un conseil de coopération.

- Pose et calcule : niv 1 : 567×9
niv 2 : 567×98



- Lis le texte et réponds à la question. Surligne les indices du texte.

Depuis son accident, il souffre d'amnésie. Il ne se rappelle plus ce qu'il a fait ces 10 dernières années. Que signifie « amnésie »?.....


Mes petits rituels - semaine 8 jour 1



- Souligne et indique la fonction (sujet, complément circonstanciels, objet, verbe) des différents groupes de mots.

Tous les vendredis, les élèves font un conseil de coopération.

- Pose et calcule : niv 1 : 567×9
niv 2 : 567×98



- Lis le texte et réponds à la question. Surligne les indices du texte.

Depuis son accident, il souffre d'amnésie. Il ne se rappelle plus ce qu'il a fait ces 10 dernières années. Que signifie « amnésie »?.....


Mes petits rituels - semaine 8 jour 1



- Souligne et indique la fonction (sujet, complément circonstanciels, objet, verbe) des différents groupes de mots.

Tous les vendredis, les élèves font un conseil de coopération.

- Pose et calcule : niv 1 : 567×9
niv 2 : 567×98



- Lis le texte et réponds à la question. Surligne les indices du texte.

Depuis son accident, il souffre d'amnésie. Il ne se rappelle plus ce qu'il a fait ces 10 dernières années. Que signifie « amnésie »?.....


Mes petits rituels - semaine 8 jour 1



- Souligne et indique la fonction (sujet, complément circonstanciels, objet, verbe) des différents groupes de mots.

Tous les vendredis, les élèves font un conseil de coopération.

- Pose et calcule : niv 1 : 567×9
niv 2 : 567×98



- Lis le texte et réponds à la question. Surligne les indices du texte.

Depuis son accident, il souffre d'amnésie. Il ne se rappelle plus ce qu'il a fait ces 10 dernières années. Que signifie « amnésie »?.....

Mes petits rituels - semaine 8 jour 2




- Trouve les synonymes .
drôle..... ami cruel

- Écris en lettres le nombre suivant.

5 030 902 :

- Résous le problème suivant.

Une personne met 36 minutes en bus pour se rendre à son travail. Combien de temps lui faut-il pour faire l'aller-retour ?



Mes petits rituels - semaine 8 jour 2




- Trouve les synonymes .
drôle..... ami cruel

- Écris en lettres le nombre suivant.

5 030 902 :

- Résous le problème suivant.

Une personne met 36 minutes en bus pour se rendre à son travail. Combien de temps lui faut-il pour faire l'aller-retour ?



Mes petits rituels - semaine 8 jour 2




- Trouve les synonymes .
drôle..... ami cruel

- Écris en lettres le nombre suivant.

5 030 902 :

- Résous le problème suivant.

Une personne met 36 minutes en bus pour se rendre à son travail. Combien de temps lui faut-il pour faire l'aller-retour ?



Mes petits rituels - semaine 8 jour 2




- Trouve les synonymes .
drôle..... ami cruel

- Écris en lettres le nombre suivant.

5 030 902 :

- Résous le problème suivant.

Une personne met 36 minutes en bus pour se rendre à son travail. Combien de temps lui faut-il pour faire l'aller-retour ?



Mes petits rituels - semaine 8 jour 3

- Lis ce groupe nominal et trouves-y les mots correspondant aux classes demandées. Alice à la poursuite du lapin blanc

dét : adj :

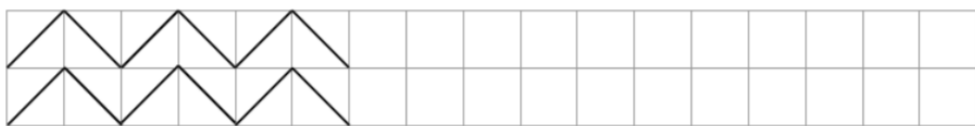
noms :

- Conjugue le verbe être au présent.

Je Tu

Nous Vous

- Complète la frise et colorie-la (facultatif)



Mes petits rituels - semaine 8 jour 3

- Lis ce groupe nominal et trouves-y les mots correspondant aux classes demandées. Alice à la poursuite du lapin blanc

dét : adj :

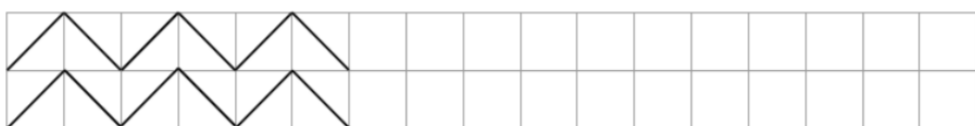
noms :

- Conjugue le verbe être au présent.

Je Tu

Nous Vous

- Complète la frise et colorie-la (facultatif)



Mes petits rituels - semaine 8 jour 3

- Lis ce groupe nominal et trouves-y les mots correspondant aux classes demandées. Alice à la poursuite du lapin blanc

dét : adj :

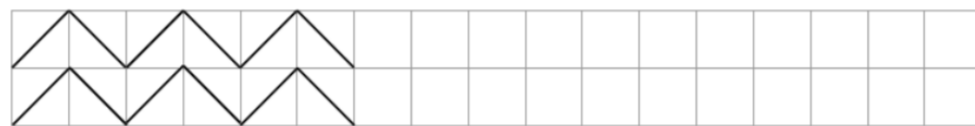
noms :

- Conjugue le verbe être au présent.

Je Tu

Nous Vous

- Complète la frise et colorie-la (facultatif)



Mes petits rituels - semaine 8 jour 3

- Lis ce groupe nominal et trouves-y les mots correspondant aux classes demandées. Alice à la poursuite du lapin blanc

dét : adj :

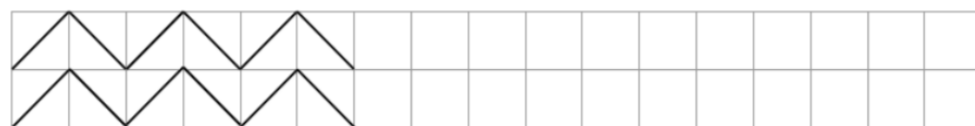
noms :

- Conjugue le verbe être au présent.

Je Tu

Nous Vous

- Complète la frise et colorie-la (facultatif)




Mes petits rituels - semaine 9 jour 1



- Souligne et indique la fonction (sujet, compléments circonstanciel, d'objet) des différents groupes de mots.

Le bateau de secours arrose les flammes, sur l'océan, durant toute la nuit.

- Pose et calcule : niv 1 : 675×3
- niv 2 : 675×43 niv 3 : $973 : 4$
- Lis le texte et réponds à la question. Surligne les indices du texte.



« En haut du télésiège, tournez à gauche pour prendre la piste bleue. » Où se passe cette scène ?

.....


Mes petits rituels - semaine 9 jour 1



- Souligne et indique la fonction (sujet, compléments circonstanciel, d'objet) des différents groupes de mots.

Le bateau de secours arrose les flammes, sur l'océan, durant toute la nuit.

- Pose et calcule : niv 1 : 675×3
- niv 2 : 675×43 niv 3 : $973 : 4$
- Lis le texte et réponds à la question. Surligne les indices du texte.



« En haut du télésiège, tournez à gauche pour prendre la piste bleue. » Où se passe cette scène ?

.....


Mes petits rituels - semaine 9 jour 1



- Souligne et indique la fonction (sujet, compléments circonstanciel, d'objet) des différents groupes de mots.

Le bateau de secours arrose les flammes, sur l'océan, durant toute la nuit.

- Pose et calcule : niv 1 : 675×3
- niv 2 : 675×43 niv 3 : $973 : 4$
- Lis le texte et réponds à la question. Surligne les indices du texte.



« En haut du télésiège, tournez à gauche pour prendre la piste bleue. » Où se passe cette scène ?

.....


Mes petits rituels - semaine 9 jour 1



- Souligne et indique la fonction (sujet, compléments circonstanciel, d'objet) des différents groupes de mots.

Le bateau de secours arrose les flammes, sur l'océan, durant toute la nuit.

- Pose et calcule : niv 1 : 675×3
- niv 2 : 675×43 niv 3 : $973 : 4$
- Lis le texte et réponds à la question. Surligne les indices du texte.



« En haut du télésiège, tournez à gauche pour prendre la piste bleue. » Où se passe cette scène ?

.....

Mes petits rituels - semaine 9 jour 2



- Trouve les antonymes (contraires)


chevelu... .. lourd... .. salé... .. réel... ..

- Écris en lettres le nombre suivant.

27 080 423 :

- Résous le problème suivant.

Nous sommes 142 élèves à l'école actuellement ? 17
élèves ont déménagé et quitté l'école depuis la rentrée.
Combien étions-nous au début de l'année ?



Mes petits rituels - semaine 9 jour 2



- Trouve les antonymes (contraires)


chevelu... .. lourd... .. salé... .. réel... ..

- Écris en lettres le nombre suivant.

27 080 423 :

- Résous le problème suivant.

Nous sommes 142 élèves à l'école actuellement ? 17
élèves ont déménagé et quitté l'école depuis la rentrée.
Combien étions-nous au début de l'année ?



Mes petits rituels - semaine 9 jour 2



- Trouve les antonymes (contraires)


chevelu... .. lourd... .. salé... .. réel... ..

- Écris en lettres le nombre suivant.

27 080 423 :

- Résous le problème suivant.

Nous sommes 142 élèves à l'école actuellement ? 17
élèves ont déménagé et quitté l'école depuis la rentrée.
Combien étions-nous au début de l'année ?



Mes petits rituels - semaine 9 jour 2



- Trouve les antonymes (contraires)


chevelu... .. lourd... .. salé... .. réel... ..

- Écris en lettres le nombre suivant.

27 080 423 :

- Résous le problème suivant.

Nous sommes 142 élèves à l'école actuellement ? 17
élèves ont déménagé et quitté l'école depuis la rentrée.
Combien étions-nous au début de l'année ?



Mes petits rituels - semaine 9 jour 3

- Lis la phrase et trouves-y les mots correspondant aux classes demandées.

Le grand frère d'Olivia est à l'université.

dét : adj :

nom propre : prép :

- Conjugue le verbe appuyer au présent.

Je Elles

Nous Vous

- Complète la frise et colorie-la (facultatif)



Mes petits rituels - semaine 9 jour 3

- Lis la phrase et trouves-y les mots correspondant aux classes demandées.

Le grand frère d'Olivia est à l'université.

dét : adj :

nom propre : prép :

- Conjugue le verbe appuyer au présent.

Je Elles

Nous Vous

- Complète la frise et colorie-la (facultatif)



Mes petits rituels - semaine 9 jour 3

- Lis la phrase et trouves-y les mots correspondant aux classes demandées.

Le grand frère d'Olivia est à l'université.

dét : adj :

nom propre : prép :

- Conjugue le verbe appuyer au présent.

Je Elles

Nous Vous

- Complète la frise et colorie-la (facultatif)



Mes petits rituels - semaine 9 jour 3

- Lis la phrase et trouves-y les mots correspondant aux classes demandées.

Le grand frère d'Olivia est à l'université.

dét : adj :

nom propre : prép :

- Conjugue le verbe appuyer au présent.

Je Elles

Nous Vous

- Complète la frise et colorie-la (facultatif)




Mes petits rituels - semaine 10 jour 1

- Souligne et indique la fonction (sujet, complément circonstanciel ou d'objet) des différents groupes de mots.

Pour aller à la piscine, les élèves prennent leur sac.

- Pose et calcule : niv 1: $7866 + 1236 + 87554$
niv 2: $786,6 + 1\ 236 + 875,54$



- Lis le texte et réponds à la question. Surligne les indices du texte.


« N'oublie pas de composer ton ticket avant d'accéder au quai. » Où se passe cette scène ?

Mes petits rituels - semaine 10 jour 1

- Souligne et indique la fonction (sujet, complément circonstanciel ou d'objet) des différents groupes de mots.

Pour aller à la piscine, les élèves prennent leur sac.

- Pose et calcule : niv 1: $7866 + 1236 + 87554$
niv 2: $786,6 + 1\ 236 + 875,54$



- Lis le texte et réponds à la question. Surligne les indices du texte.


« N'oublie pas de composer ton ticket avant d'accéder au quai. » Où se passe cette scène ?

Mes petits rituels - semaine 10 jour 1

- Souligne et indique la fonction (sujet, complément circonstanciel ou d'objet) des différents groupes de mots.

Pour aller à la piscine, les élèves prennent leur sac.

- Pose et calcule : niv 1: $7866 + 1236 + 87554$
niv 2: $786,6 + 1\ 236 + 875,54$



- Lis le texte et réponds à la question. Surligne les indices du texte.


« N'oublie pas de composer ton ticket avant d'accéder au quai. » Où se passe cette scène ?

Mes petits rituels - semaine 10 jour 1

- Souligne et indique la fonction (sujet, complément circonstanciel ou d'objet) des différents groupes de mots.

Pour aller à la piscine, les élèves prennent leur sac.

- Pose et calcule : niv 1: $7866 + 1236 + 87554$
niv 2: $786,6 + 1\ 236 + 875,54$



- Lis le texte et réponds à la question. Surligne les indices du texte.

« N'oublie pas de composer ton ticket avant d'accéder au quai. » Où se passe cette scène ?

Mes petits rituels - semaine 10 jour 2

- Trouve les homonymes (se prononcent pareil mais ont un autre sens)

mère sans vert..... laid.....

- Écris en lettres le nombre suivant.

230 040 670 :

- Résous le problème suivant.

La différence d'âge entre Catherine et son père est de 29 ans. Quel est l'âge de Catherine si son père a 48 ans ?

Mes petits rituels - semaine 10 jour 2

- Trouve les homonymes (se prononcent pareil mais ont un autre sens)

mère sans vert..... laid.....

- Écris en lettres le nombre suivant.

230 040 670 :

- Résous le problème suivant.

La différence d'âge entre Catherine et son père est de 29 ans. Quel est l'âge de Catherine si son père a 48 ans ?

Mes petits rituels - semaine 10 jour 2

- Trouve les homonymes (se prononcent pareil mais ont un autre sens)

mère sans vert..... laid.....

- Écris en lettres le nombre suivant.

230 040 670 :

- Résous le problème suivant.

La différence d'âge entre Catherine et son père est de 29 ans. Quel est l'âge de Catherine si son père a 48 ans ?

Mes petits rituels - semaine 10 jour 2

- Trouve les homonymes (se prononcent pareil mais ont un autre sens)

mère sans vert..... laid.....

- Écris en lettres le nombre suivant.

230 040 670 :

- Résous le problème suivant.

La différence d'âge entre Catherine et son père est de 29 ans. Quel est l'âge de Catherine si son père a 48 ans ?

Mes petits rituels - semaine 10 jour 3

- Lis la phrase et trouves-y les mots correspondant aux classes demandées.

Gaspard et sa sœur refusent de monter dans leurs chambres.

dét : nom commun :

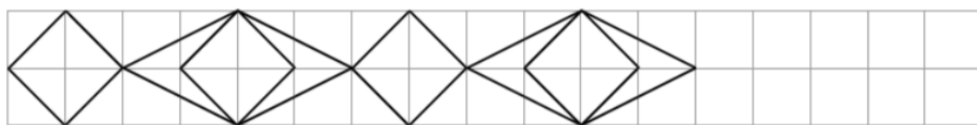
nom propre: prép :

- Conjugué le verbe avancer à l'imparfait.

Tu On

Nous Ils

- Complète la frise et colorie-la (facultatif)



Mes petits rituels - semaine 10 jour 3

- Lis la phrase et trouves-y les mots correspondant aux classes demandées.

Gaspard et sa sœur refusent de monter dans leurs chambres.

dét : nom commun :

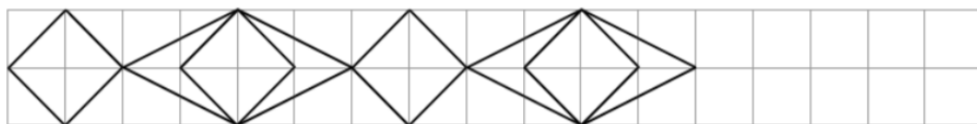
nom propre: prép :

- Conjugué le verbe avancer à l'imparfait.

Tu On

Nous Ils

- Complète la frise et colorie-la (facultatif)



Mes petits rituels - semaine 10 jour 3

- Lis la phrase et trouves-y les mots correspondant aux classes demandées.

Gaspard et sa sœur refusent de monter dans leurs chambres.

dét : nom commun :

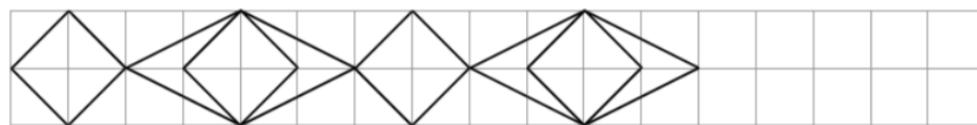
nom propre: prép :

- Conjugué le verbe avancer à l'imparfait.

Tu On

Nous Ils

- Complète la frise et colorie-la (facultatif)



Mes petits rituels - semaine 10 jour 3

- Lis la phrase et trouves-y les mots correspondant aux classes demandées.

Gaspard et sa sœur refusent de monter dans leurs chambres.

dét : nom commun :

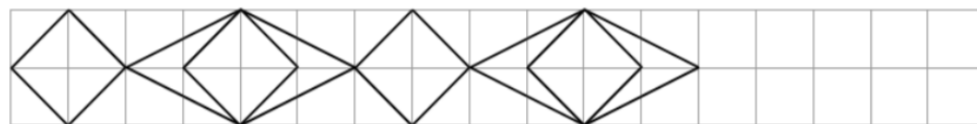
nom propre: prép :

- Conjugué le verbe avancer à l'imparfait.

Tu On

Nous Ils

- Complète la frise et colorie-la (facultatif)



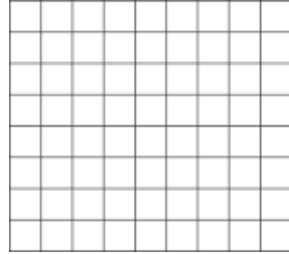
Mes petits rituels - semaine 11 jour 1



- Souligne et indique la fonction (sujet, complément circonstanciel et d'objet) des différents groupes de mots.

Le brossage des dents doit durer deux minutes, matin et soir.

- Pose et calcule : niv1 : 8 023 - 1 946
niv 2 : 8 02,3 - 194,6



- Lis le texte et réponds à la question. Surligne les indices du texte.

Avant de poster l'enveloppe, il faut y mettre un timbre puis la cacheter afin que son contenu ne sorte pas. **Que signifie « cacheter » ?**


Mes petits rituels - semaine 11 jour 1



- Souligne et indique la fonction (sujet, complément circonstanciel et d'objet) des différents groupes de mots.

Le brossage des dents doit durer deux minutes, matin et soir.

- Pose et calcule : niv1 : 8 023 - 1 946
niv 2 : 8 02,3 - 194,6



- Lis le texte et réponds à la question. Surligne les indices du texte.

Avant de poster l'enveloppe, il faut y mettre un timbre puis la cacheter afin que son contenu ne sorte pas. **Que signifie « cacheter » ?**

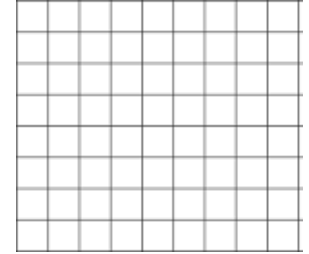
Mes petits rituels - semaine 11 jour 1



- Souligne et indique la fonction (sujet, complément circonstanciel et d'objet) des différents groupes de mots.

Le brossage des dents doit durer deux minutes, matin et soir.

- Pose et calcule : niv1 : 8 023 - 1 946
niv 2 : 8 02,3 - 194,6



- Lis le texte et réponds à la question. Surligne les indices du texte.

Avant de poster l'enveloppe, il faut y mettre un timbre puis la cacheter afin que son contenu ne sorte pas. **Que signifie « cacheter » ?**

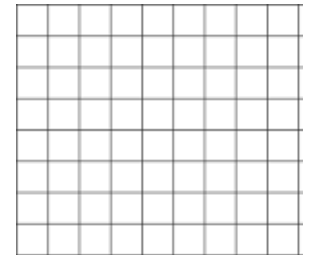
Mes petits rituels - semaine 11 jour 1



- Souligne et indique la fonction (sujet, complément circonstanciel et d'objet) des différents groupes de mots.

Le brossage des dents doit durer deux minutes, matin et soir.

- Pose et calcule : niv1 : 8 023 - 1 946
niv 2 : 8 02,3 - 194,6



- Lis le texte et réponds à la question. Surligne les indices du texte.

Avant de poster l'enveloppe, il faut y mettre un timbre puis la cacheter afin que son contenu ne sorte pas. **Que signifie « cacheter » ?**

Mes petits rituels - semaine 11 jour 2



- Trouve les synonymes

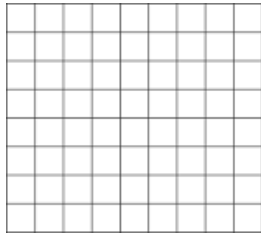
sauter..... voiture..... réfectoire

- Écris en lettres le nombre suivant.

92 190 780 :

- Résous le problème suivant.

Paul a 56 €. Il lui manque 12 € pour s'acheter une paire de rollers. Combien la paire de rollers coûte-t-elle ?



Mes petits rituels - semaine 11 jour 2



- Trouve les synonymes


sauter..... voiture..... réfectoire

- Écris en lettres le nombre suivant.

92 190 780 :

- Résous le problème suivant.

Paul a 56 €. Il lui manque 12 € pour s'acheter une paire de rollers. Combien la paire de rollers coûte-t-elle ?



Mes petits rituels - semaine 11 jour 2



- Trouve les synonymes

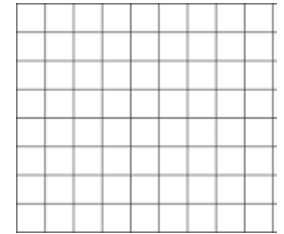
sauter..... voiture..... réfectoire

- Écris en lettres le nombre suivant.

92 190 780 :

- Résous le problème suivant.

Paul a 56 €. Il lui manque 12 € pour s'acheter une paire de rollers. Combien la paire de rollers coûte-t-elle ?



Mes petits rituels - semaine 11 jour 2



- Trouve les synonymes


sauter..... voiture..... réfectoire

- Écris en lettres le nombre suivant.

92 190 780 :

- Résous le problème suivant.

Paul a 56 €. Il lui manque 12 € pour s'acheter une paire de rollers. Combien la paire de rollers coûte-t-elle ?



Mes petits rituels - semaine 11 jour 3

- Lis la phrase et trouves-y les mots correspondant aux classes demandées.

Cette course difficile s'est terminée très rapidement.

dét : nom commun :

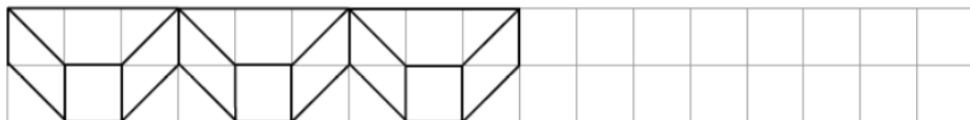
adv: adj :

- Conjugue le verbe apprendre au présent

Tu Elle

Nous Ils

- Complète la frise et colorie-la (facultatif)



Mes petits rituels - semaine 11 jour 3

- Lis la phrase et trouves-y les mots correspondant aux classes demandées.

Cette course difficile s'est terminée très rapidement.

dét : nom commun :

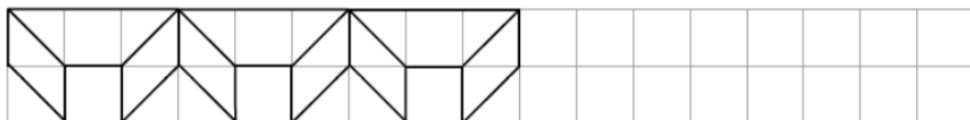
adv: adj :

- Conjugue le verbe apprendre au présent

Tu Elle

Nous Ils

- Complète la frise et colorie-la (facultatif)



Mes petits rituels - semaine 11 jour 3

- Lis la phrase et trouves-y les mots correspondant aux classes demandées.

Cette course difficile s'est terminée très rapidement.

dét : nom commun :

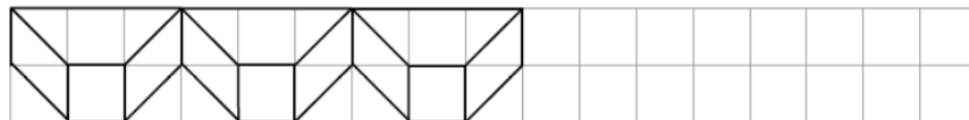
adv: adj :

- Conjugue le verbe apprendre au présent

Tu Elle

Nous Ils

- Complète la frise et colorie-la (facultatif)



Mes petits rituels - semaine 11 jour 3

- Lis la phrase et trouves-y les mots correspondant aux classes demandées.

Cette course difficile s'est terminée très rapidement.

dét : nom commun :

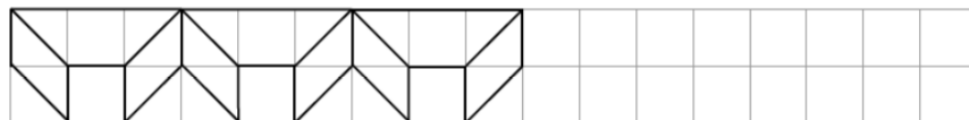
adv: adj :

- Conjugue le verbe apprendre au présent

Tu Elle

Nous Ils

- Complète la frise et colorie-la (facultatif)




Mes petits rituels - semaine 12 jour 1



- Souligne et indique la fonction (sujet, complément circonstanciel et objet) des différents groupes de mots.

Il avala rapidement son bonbon avant d'être vu.

- Pose et calcule : niv 1 : 947×9
niv 2 : 947×99



- Lis le texte et réponds à la question. Surligne les indices du texte.

Le paysage a tellement changé. L'an dernier, il y avait ici une forêt. Et maintenant, ça et là, des troncs noircis, c'est tout.

Qu'est-ce qui a causé la disparition de la forêt ?


Mes petits rituels - semaine 12 jour 1



- Souligne et indique la fonction (sujet, complément circonstanciel et objet) des différents groupes de mots.

Il avala rapidement son bonbon avant d'être vu.

- Pose et calcule : niv 1 : 947×9
niv 2 : 947×99



- Lis le texte et réponds à la question. Surligne les indices du texte.

Le paysage a tellement changé. L'an dernier, il y avait ici une forêt. Et maintenant, ça et là, des troncs noircis, c'est tout.

Qu'est-ce qui a causé la disparition de la forêt ?


Mes petits rituels - semaine 12 jour 1



- Souligne et indique la fonction (sujet, complément circonstanciel et objet) des différents groupes de mots.

Il avala rapidement son bonbon avant d'être vu.

- Pose et calcule : niv 1 : 947×9
niv 2 : 947×99



- Lis le texte et réponds à la question. Surligne les indices du texte.

Le paysage a tellement changé. L'an dernier, il y avait ici une forêt. Et maintenant, ça et là, des troncs noircis, c'est tout.

Qu'est-ce qui a causé la disparition de la forêt ?


Mes petits rituels - semaine 12 jour 1



- Souligne et indique la fonction (sujet, complément circonstanciel et objet) des différents groupes de mots.

Il avala rapidement son bonbon avant d'être vu.

- Pose et calcule : niv 1 : 947×9
niv 2 : 947×99



- Lis le texte et réponds à la question. Surligne les indices du texte.

Le paysage a tellement changé. L'an dernier, il y avait ici une forêt. Et maintenant, ça et là, des troncs noircis, c'est tout.

Qu'est-ce qui a causé la disparition de la forêt ?

Mes petits rituels - semaine 12 jour 2

- Complète la phrase avec *a* ou *à*.

Poël terminé ses devoirs cinq heures.

- Écris le nombre suivant : quarante-millions-treize-mille-cent-quatre.

en chiffres :

décompose-le :


- Résous le problème suivant.

De Paris à Orléans il y a 120 km.

D'Orléans à Bourges il y a 110 km.

De Bourges à Montluçon il y a 92 km.

Quelle distance sépare Paris de Montluçon ?



Mes petits rituels - semaine 12 jour 2

- Complète la phrase avec *a* ou *à*.

Poël terminé ses devoirs cinq heures.

- Écris le nombre suivant : quarante-millions-treize-mille-cent-quatre.

en chiffres :

décompose-le :


- Résous le problème suivant.

De Paris à Orléans il y a 120 km.

D'Orléans à Bourges il y a 110 km.

De Bourges à Montluçon il y a 92 km.

Quelle distance sépare Paris de Montluçon ?



Mes petits rituels - semaine 12 jour 2

- Complète la phrase avec *a* ou *à*.

Poël terminé ses devoirs cinq heures.

- Écris le nombre suivant : quarante-millions-treize-mille-cent-quatre.

en chiffres :

décompose-le :


- Résous le problème suivant.

De Paris à Orléans il y a 120 km.

D'Orléans à Bourges il y a 110 km.

De Bourges à Montluçon il y a 92 km.

Quelle distance sépare Paris de Montluçon ?



Mes petits rituels - semaine 12 jour 2

- Complète la phrase avec *a* ou *à*.

Poël terminé ses devoirs cinq heures.

- Écris le nombre suivant : quarante-millions-treize-mille-cent-quatre.

en chiffres :

décompose-le :


- Résous le problème suivant.

De Paris à Orléans il y a 120 km.

D'Orléans à Bourges il y a 110 km.

De Bourges à Montluçon il y a 92 km.

Quelle distance sépare Paris de Montluçon ?



Mes petits rituels - semaine 12 jour 3

- Lis la phrase et trouves-y les mots correspondant aux classes demandées.

Elle préférerait nos boucles d'oreilles avec les perles.

dét : prép :
pron : n.commun :

- Conjuge le verbe crier à l'imparfait

Je Théo
Vous Ils

- Complète la frise et colorie-la (facultatif)



Mes petits rituels - semaine 12 jour 3

- Lis la phrase et trouves-y les mots correspondant aux classes demandées.

Elle préférerait nos boucles d'oreilles avec les perles.

dét : prép :
pron : n.commun :

- Conjuge le verbe crier à l'imparfait

Je Théo
Vous Ils

- Complète la frise et colorie-la (facultatif)



Mes petits rituels - semaine 12 jour 3

- Lis la phrase et trouves-y les mots correspondant aux classes demandées.

Elle préférerait nos boucles d'oreilles avec les perles.

dét : prép :
pron : n.commun :

- Conjuge le verbe crier à l'imparfait

Je Théo
Vous Ils

- Complète la frise et colorie-la (facultatif)



Mes petits rituels - semaine 12 jour 3

- Lis la phrase et trouves-y les mots correspondant aux classes demandées.

Elle préférerait nos boucles d'oreilles avec les perles.

dét : prép :
pron : n.commun :

- Conjuge le verbe crier à l'imparfait

Je Théo
Vous Ils

- Complète la frise et colorie-la (facultatif)



Mes petits rituels - semaine 13 jour 2

- Complète par *ou* ou *où*


..... préfères-tu aller ? *À* la plage *à* la montagne ?

- Écris en lettres le nombre suivant.

5 230 000 034 :

- Résous le problème suivant.

Un sous-marin plonge dans l'océan. Il descend d'abord de 45 m, puis de 53 m. **De combien de mètres est-il descendu en tout ?**



Mes petits rituels - semaine 13 jour 2

- Complète par *ou* ou *où*


..... préfères-tu aller ? *À* la plage *à* la montagne ?

- Écris en lettres le nombre suivant.

5 230 000 034 :

- Résous le problème suivant.

Un sous-marin plonge dans l'océan. Il descend d'abord de 45 m, puis de 53 m. **De combien de mètres est-il descendu en tout ?**



Mes petits rituels - semaine 13 jour 2

- Complète par *ou* ou *où*


..... préfères-tu aller ? *À* la plage *à* la montagne ?

- Écris en lettres le nombre suivant.

5 230 000 034 :

- Résous le problème suivant.

Un sous-marin plonge dans l'océan. Il descend d'abord de 45 m, puis de 53 m. **De combien de mètres est-il descendu en tout ?**



Mes petits rituels - semaine 13 jour 2

- Complète par *ou* ou *où*


..... préfères-tu aller ? *À* la plage *à* la montagne ?

- Écris en lettres le nombre suivant.

5 230 000 034 :

- Résous le problème suivant.

Un sous-marin plonge dans l'océan. Il descend d'abord de 45 m, puis de 53 m. **De combien de mètres est-il descendu en tout ?**



Mes petits rituels - semaine 13 jour 3

- Lis la phrase et trouves-y les mots correspondant aux classes demandées.

Ce totem leur donne l'immunité totale.

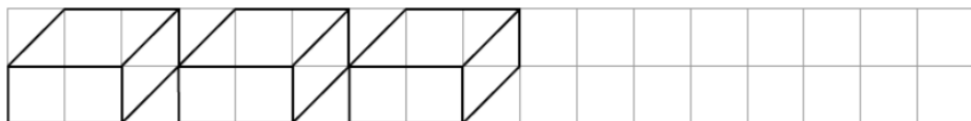
dét : adj :
pron : n.commun :

- Conjugué le verbe peindre au présent

Il Nous

Vous Tu

- Complète la frise et colorie-la (facultatif)



Mes petits rituels - semaine 13 jour 3

- Lis la phrase et trouves-y les mots correspondant aux classes demandées.

Ce totem leur donne l'immunité totale.

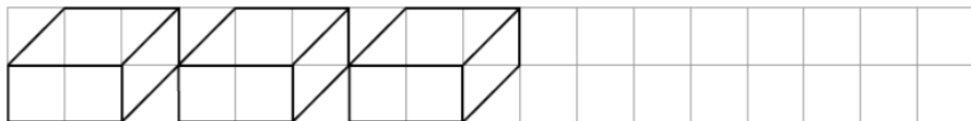
dét : adj :
pron : n.commun :

- Conjugué le verbe peindre au présent

Il Nous

Vous Tu

- Complète la frise et colorie-la (facultatif)



Mes petits rituels - semaine 13 jour 3

- Lis la phrase et trouves-y les mots correspondant aux classes demandées.

Ce totem leur donne l'immunité totale.

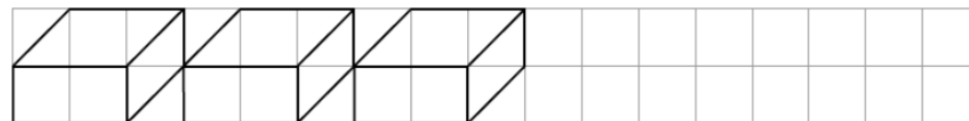
dét : adj :
pron : n.commun :

- Conjugué le verbe peindre au présent

Il Nous

Vous Tu

- Complète la frise et colorie-la (facultatif)



Mes petits rituels - semaine 13 jour 3

- Lis la phrase et trouves-y les mots correspondant aux classes demandées.

Ce totem leur donne l'immunité totale.

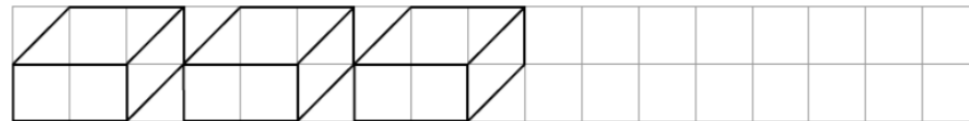
dét : adj :
pron : n.commun :

- Conjugué le verbe peindre au présent

Il Nous

Vous Tu

- Complète la frise et colorie-la (facultatif)




Mes petits rituels - semaine 14 jour 1



- Souligne et indique la fonction (sujet, complément circonstanciel, d'objet) des différents groupes de mots.

En France, la région des Pays de Loire est composée de cinq départements.

- Pose et calcule : niv 1 : 98 065 - 56 789
niv 2 : 9 876 : 4



- Lis le texte et réponds à la question. Surligne les indices du texte.

Nous avons emmené notre chien chez ce vétérinaire qui a réussi à le soigner. **Le vétérinaire est un homme ou une femme ?**


Mes petits rituels - semaine 14 jour 1



- Souligne et indique la fonction (sujet, complément circonstanciel, d'objet) des différents groupes de mots.

En France, la région des Pays de Loire est composée de cinq départements.

- Pose et calcule : niv 1 : 98 065 - 56 789
niv 2 : 9 876 : 4



- Lis le texte et réponds à la question. Surligne les indices du texte.

Nous avons emmené notre chien chez ce vétérinaire qui a réussi à le soigner. **Le vétérinaire est un homme ou une femme ?**


Mes petits rituels - semaine 14 jour 1



- Souligne et indique la fonction (sujet, complément circonstanciel, d'objet) des différents groupes de mots.

En France, la région des Pays de Loire est composée de cinq départements.

- Pose et calcule : niv 1 : 98 065 - 56 789
niv 2 : 9 876 : 4



- Lis le texte et réponds à la question. Surligne les indices du texte.

Nous avons emmené notre chien chez ce vétérinaire qui a réussi à le soigner. **Le vétérinaire est un homme ou une femme ?**


Mes petits rituels - semaine 14 jour 1



- Souligne et indique la fonction (sujet, complément circonstanciel, d'objet) des différents groupes de mots.

En France, la région des Pays de Loire est composée de cinq départements.

- Pose et calcule : niv 1 : 98 065 - 56 789
niv 2 : 9 876 : 4



- Lis le texte et réponds à la question. Surligne les indices du texte.

Nous avons emmené notre chien chez ce vétérinaire qui a réussi à le soigner. **Le vétérinaire est un homme ou une femme ?**

Mes petits rituels - semaine 14 jour 2

- Complète avec à ou a


L'enfant pris le chemin qui menait la grotte.

- Écris en lettres le nombre suivant.

234 008 201 :

- Résous le problème suivant.

Dans une salle de cinéma, il y a 36 rangées de 24 places chacune. *Il combien de places différentes puis-je m'asseoir ?*.....



Mes petits rituels - semaine 14 jour 2

- Complète avec à ou a


L'enfant pris le chemin qui menait la grotte.

- Écris en lettres le nombre suivant.

234 008 201 :

- Résous le problème suivant.

Dans une salle de cinéma, il y a 36 rangées de 24 places chacune. *Il combien de places différentes puis-je m'asseoir ?*.....



Mes petits rituels - semaine 14 jour 2

- Complète avec à ou a


L'enfant pris le chemin qui menait la grotte.

- Écris en lettres le nombre suivant.

234 008 201 :

- Résous le problème suivant.

Dans une salle de cinéma, il y a 36 rangées de 24 places chacune. *Il combien de places différentes puis-je m'asseoir ?*.....



Mes petits rituels - semaine 14 jour 2

- Complète avec à ou a


L'enfant pris le chemin qui menait la grotte.

- Écris en lettres le nombre suivant.

234 008 201 :

- Résous le problème suivant.

Dans une salle de cinéma, il y a 36 rangées de 24 places chacune. *Il combien de places différentes puis-je m'asseoir ?*.....



Mes petits rituels - semaine 14 jour 3

- Lis la phrase et trouves-y les mots correspondant aux classes demandées.

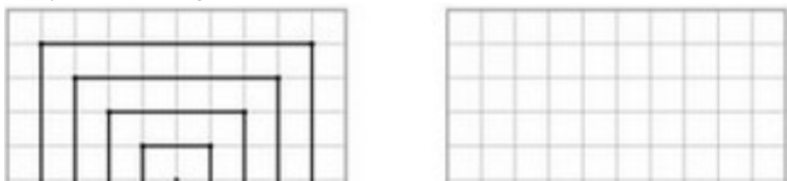
Si tu vois tout en gris, déplace l'éléphant. (Proverbe Indien)

dét : adj :
pron : prép :

- Conjugué le verbe faire au présent .

Je Elle
Vous Ils

- Reproduis la figure et colorie-la (facultatif)



Mes petits rituels - semaine 14 jour 3

- Lis la phrase et trouves-y les mots correspondant aux classes demandées.

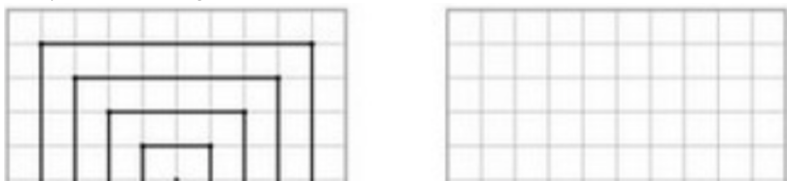
Si tu vois tout en gris, déplace l'éléphant. (Proverbe Indien)

dét : adj :
pron : prép :

- Conjugué le verbe faire au présent .

Je Elle
Vous Ils

- Reproduis la figure et colorie-la (facultatif)



Mes petits rituels - semaine 14 jour 3

- Lis la phrase et trouves-y les mots correspondant aux classes demandées.

Si tu vois tout en gris, déplace l'éléphant. (Proverbe Indien)

dét : adj :
pron : prép :

- Conjugué le verbe faire au présent .

Je Elle
Vous Ils

- Reproduis la figure et colorie-la (facultatif)



Mes petits rituels - semaine 14 jour 3

- Lis la phrase et trouves-y les mots correspondant aux classes demandées.

Si tu vois tout en gris, déplace l'éléphant. (Proverbe Indien)

dét : adj :
pron : prép :

- Conjugué le verbe faire au présent .

Je Elle
Vous Ils

- Reproduis la figure et colorie-la (facultatif)



Mes petits rituels - semaine 15 jour 1

- Souligne et indique la fonction des différents groupes de mots
- Donne la classe des mots indiqués.

Tous les soirs, nous lisons des mangas durant vingt minutes.

les : nous : mangas :

- Pose et calcule : niv 1 : $50\ 654 - 3$
niv 2 : $50\ 654 - 34$ niv 3 : $5\ 472 : 3$

- Lis le texte et réponds à la question. Surligne les indices du texte.

Marc a reçu de nombreux éloges pour son travail remarquable. Les parents étaient très fiers de lui. **Que signifie « éloge » ?**

Mes petits rituels - semaine 15 jour 1

- Souligne et indique la fonction des différents groupes de mots
- Donne la classe des mots indiqués.

Tous les soirs, nous lisons des mangas durant vingt minutes.

les : nous : mangas :

- Pose et calcule : niv 1 : $50\ 654 - 3$
niv 2 : $50\ 654 - 34$ niv 3 : $5\ 472 : 3$

- Lis le texte et réponds à la question. Surligne les indices du texte.

Marc a reçu de nombreux éloges pour son travail remarquable. Les parents étaient très fiers de lui. **Que signifie « éloge » ?**

Mes petits rituels - semaine 15 jour 1

- Souligne et indique la fonction des différents groupes de mots
- Donne la classe des mots indiqués.

Tous les soirs, nous lisons des mangas durant vingt minutes.

les : nous : mangas :

- Pose et calcule : niv 1 : $50\ 654 - 3$
niv 2 : $50\ 654 - 34$ niv 3 : $5\ 472 : 3$

- Lis le texte et réponds à la question. Surligne les indices du texte.

Marc a reçu de nombreux éloges pour son travail remarquable. Les parents étaient très fiers de lui. **Que signifie « éloge » ?**

Mes petits rituels - semaine 15 jour 1

- Souligne et indique la fonction des différents groupes de mots
- Donne la classe des mots indiqués.

Tous les soirs, nous lisons des mangas durant vingt minutes.

les : nous : mangas :

- Pose et calcule : niv 1 : $50\ 654 - 3$
niv 2 : $50\ 654 - 34$ niv 3 : $5\ 472 : 3$

- Lis le texte et réponds à la question. Surligne les indices du texte.

Marc a reçu de nombreux éloges pour son travail remarquable. Les parents étaient très fiers de lui. **Que signifie « éloge » ?**

Mes petits rituels - semaine 15 jour 2

- Complète avec *ou* ou *où*

..... voulez-vous danser ? Pamba hip-hop

- Range dans l'ordre croissant : 6 543 023 - 23 345 019 - 2 435 230 - 5 789 654 :

- Résous le problème suivant.

Dans un sceau, un fleuriste a disposé 10 bouquets de tulipes. Dans chaque bouquet, il y a 9 fleurs. Combien y a-t-il de tulipes en tout dans le seau ?

Mes petits rituels - semaine 15 jour 2

- Complète avec *ou* ou *où*

..... voulez-vous danser ? Pamba hip-hop

- Range dans l'ordre croissant : 6 543 023 - 23 345 019 - 2 435 230 - 5 789 654 :

- Résous le problème suivant.

Dans un sceau, un fleuriste a disposé 10 bouquets de tulipes. Dans chaque bouquet, il y a 9 fleurs. Combien y a-t-il de tulipes en tout dans le seau ?

Mes petits rituels - semaine 15 jour 2

- Complète avec *ou* ou *où*

..... voulez-vous danser ? Pamba hip-hop

- Range dans l'ordre croissant : 6 543 023 - 23 345 019 - 2 435 230 - 5 789 654 :

- Résous le problème suivant.

Dans un sceau, un fleuriste a disposé 10 bouquets de tulipes. Dans chaque bouquet, il y a 9 fleurs. Combien y a-t-il de tulipes en tout dans le seau ?

Mes petits rituels - semaine 15 jour 2

- Complète avec *ou* ou *où*

..... voulez-vous danser ? Pamba hip-hop

- Range dans l'ordre croissant : 6 543 023 - 23 345 019 - 2 435 230 - 5 789 654 :

- Résous le problème suivant.

Dans un sceau, un fleuriste a disposé 10 bouquets de tulipes. Dans chaque bouquet, il y a 9 fleurs. Combien y a-t-il de tulipes en tout dans le seau ?

Mes petits rituels - semaine 15 jour 3

- Range dans l'ordre alphabétique.

corail - crier - calèche - cortège - corner - caille

.....

.....

- Conjugue le verbe avoir au présent (niv 1), et à l'imparfait (niv 2).

J'..... Il

Nous..... Elles

- Reproduis la figure et colorie-la (facultatif)



Mes petits rituels - semaine 15 jour 3

- Range dans l'ordre alphabétique.

corail - crier - calèche - cortège - corner - caille

.....

.....

- Conjugue le verbe avoir au présent (niv 1), et à l'imparfait (niv 2).

J'..... Il

Nous..... Elles

- Reproduis la figure et colorie-la (facultatif)



Mes petits rituels - semaine 15 jour 3

- Range dans l'ordre alphabétique.

corail - crier - calèche - cortège - corner - caille

.....

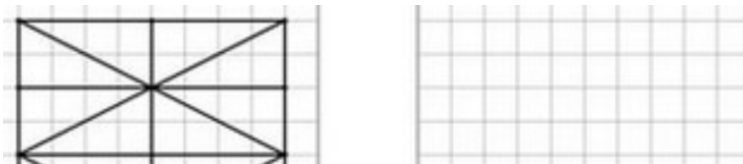
.....

- Conjugue le verbe avoir au présent (niv 1), et à l'imparfait (niv 2).

J'..... Il

Nous..... Elles

- Reproduis la figure et colorie-la (facultatif)



Mes petits rituels - semaine 15 jour 3

- Range dans l'ordre alphabétique.

corail - crier - calèche - cortège - corner - caille

.....

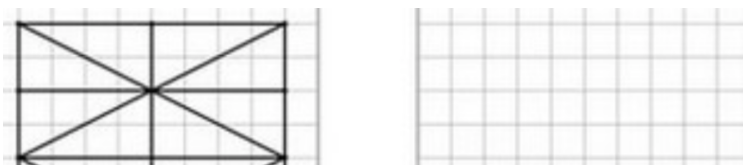
.....

- Conjugue le verbe avoir au présent (niv 1), et à l'imparfait (niv 2).

J'..... Il

Nous..... Elles

- Reproduis la figure et colorie-la (facultatif)



Mes petits rituels - semaine 16 jour 1




- Souligne et indique la fonction des différents groupes de mots
- Indique la classe des mots indiqués.

Leur robot suit les instructions efficacement.

leur : les : instructions :

- Pose et calcule : niv 1 : $8\,765 \times 4$
- niv 2 : $8\,765 \times 43$. niv 3 ; $9\,874 : 2$.
- Lis le texte et réponds à la question. Surligne les indices du texte.

Regarde le singe, il grimpe à sa cage et le lion tourne en rond dans son enclos. » Où se passe cette scène ?



Mes petits rituels - semaine 16 jour 1




- Souligne et indique la fonction des différents groupes de mots
- Indique la classe des mots indiqués.

Leur robot suit les instructions efficacement.

leur : les : instructions :

- Pose et calcule : niv 1 : $8\,765 \times 4$
- niv 2 : $8\,765 \times 43$. niv 3 ; $9\,874 : 2$.
- Lis le texte et réponds à la question. Surligne les indices du texte.

Regarde le singe, il grimpe à sa cage et le lion tourne en rond dans son enclos. » Où se passe cette scène ?



Mes petits rituels - semaine 16 jour 1




- Souligne et indique la fonction des différents groupes de mots
- Indique la classe des mots indiqués.

Leur robot suit les instructions efficacement.

leur : les : instructions :

- Pose et calcule : niv 1 : $8\,765 \times 4$
- niv 2 : $8\,765 \times 43$. niv 3 ; $9\,874 : 2$.
- Lis le texte et réponds à la question. Surligne les indices du texte.

Regarde le singe, il grimpe à sa cage et le lion tourne en rond dans son enclos. » Où se passe cette scène ?



Mes petits rituels - semaine 16 jour 1




- Souligne et indique la fonction des différents groupes de mots
- Indique la classe des mots indiqués.

Leur robot suit les instructions efficacement.

leur : les : instructions :

- Pose et calcule : niv 1 : $8\,765 \times 4$
- niv 2 : $8\,765 \times 43$. niv 3 ; $9\,874 : 2$.
- Lis le texte et réponds à la question. Surligne les indices du texte.

Regarde le singe, il grimpe à sa cage et le lion tourne en rond dans son enclos. » Où se passe cette scène ?



Mes petits rituels - semaine 16 jour 2


- Mets au pluriel

clou : hibou verrou chou

- Range dans l'ordre décroissant : 8 978 644 - 9 864 644 - 9 979 654 - 9 875 454 :

- Résous le problème suivant.

Pierre a 25 € à dépenser pour Noël. Il veut dépenser 5€ par cadeau. Combien peut-il faire de cadeaux ?



Mes petits rituels - semaine 16 jour 2


- Mets au pluriel

clou : hibou verrou chou

- Range dans l'ordre décroissant : 8 978 644 - 9 864 644 - 9 979 654 - 9 875 454 :

- Résous le problème suivant.

Pierre a 25 € à dépenser pour Noël. Il veut dépenser 5€ par cadeau. Combien peut-il faire de cadeaux ?



Mes petits rituels - semaine 16 jour 2


- Mets au pluriel

clou : hibou verrou chou

- Range dans l'ordre décroissant : 8 978 644 - 9 864 644 - 9 979 654 - 9 875 454 :

- Résous le problème suivant.

Pierre a 25 € à dépenser pour Noël. Il veut dépenser 5€ par cadeau. Combien peut-il faire de cadeaux ?



Mes petits rituels - semaine 16 jour 2


- Mets au pluriel

clou : hibou verrou chou

- Range dans l'ordre décroissant : 8 978 644 - 9 864 644 - 9 979 654 - 9 875 454 :

- Résous le problème suivant.

Pierre a 25 € à dépenser pour Noël. Il veut dépenser 5€ par cadeau. Combien peut-il faire de cadeaux ?



Mes petits rituels - semaine 16 jour 3

- Range dans l'ordre alphabétique.

faire - facteur - farceur - fabriquer - farfelu - façon - fabrique

.....


.....

- Conjugue le verbe prendre à l'imparfait (niv 1) et au présent (niv 2)

Je Nous

Vous Elles

- Reproduis la figure et colorie-la (facultatif)



Mes petits rituels - semaine 16 jour 3

- Range dans l'ordre alphabétique.

faire - facteur - farceur - fabriquer - farfelu - façon - fabrique

.....


.....

- Conjugue le verbe prendre à l'imparfait (niv 1) et au présent (niv 2)

Je Nous

Vous Elles

- Reproduis la figure et colorie-la (facultatif)



Mes petits rituels - semaine 16 jour 3

- Range dans l'ordre alphabétique.

faire - facteur - farceur - fabriquer - farfelu - façon - fabrique

.....


.....

- Conjugue le verbe prendre à l'imparfait (niv 1) et au présent (niv 2)

Je Nous

Vous Elles

- Reproduis la figure et colorie-la (facultatif)



Mes petits rituels - semaine 16 jour 3

- Range dans l'ordre alphabétique.

faire - facteur - farceur - fabriquer - farfelu - façon - fabrique

.....

.....

- Conjugue le verbe prendre à l'imparfait (niv 1) et au présent (niv 2)

Je Nous

Vous Elles

- Reproduis la figure et colorie-la (facultatif)



Mes petits rituels - semaine 17 jour 1




- Souligne et indique la fonction des différents groupes de mots
- indique la classe des mots indiqués.

Chaque jour, la vie est un défi à relever, une aventure à tenter.

chaque : à : tenter :

- Pose et calcule : niv 1 $8\,784 + 7\,645 + 897$
niv 2 : $87,84 + 76,45 + 8,97$



- Lis le texte et réponds à la question. Surligne les indices du texte.

Pour lui faire plaisir, donne-lui un peu de salade. Mais si tu t'approches de trop, elle rentre dans sa carapace ! **De qui parle-t-on ?**

Mes petits rituels - semaine 17 jour 1




- Souligne et indique la fonction des différents groupes de mots
- indique la classe des mots indiqués.

Chaque jour, la vie est un défi à relever, une aventure à tenter.

chaque : à : tenter :

- Pose et calcule : niv 1 $8\,784 + 7\,645 + 897$
niv 2 : $87,84 + 76,45 + 8,97$



- Lis le texte et réponds à la question. Surligne les indices du texte.

Pour lui faire plaisir, donne-lui un peu de salade. Mais si tu t'approches de trop, elle rentre dans sa carapace ! **De qui parle-t-on ?**

Mes petits rituels - semaine 17 jour 1




- Souligne et indique la fonction des différents groupes de mots
- indique la classe des mots indiqués.

Chaque jour, la vie est un défi à relever, une aventure à tenter.

chaque : à : tenter :

- Pose et calcule : niv 1 $8\,784 + 7\,645 + 897$
niv 2 : $87,84 + 76,45 + 8,97$



- Lis le texte et réponds à la question. Surligne les indices du texte.

Pour lui faire plaisir, donne-lui un peu de salade. Mais si tu t'approches de trop, elle rentre dans sa carapace ! **De qui parle-t-on ?**

Mes petits rituels - semaine 17 jour 1




- Souligne et indique la fonction des différents groupes de mots
- indique la classe des mots indiqués.

Chaque jour, la vie est un défi à relever, une aventure à tenter.

chaque : à : tenter :

- Pose et calcule : niv 1 $8\,784 + 7\,645 + 897$
niv 2 : $87,84 + 76,45 + 8,97$



- Lis le texte et réponds à la question. Surligne les indices du texte.

Pour lui faire plaisir, donne-lui un peu de salade. Mais si tu t'approches de trop, elle rentre dans sa carapace ! **De qui parle-t-on ?**

Mes petits rituels - semaine 17 jour 2


- Mets la phrase au pluriel

Le train démarre lentement.

- Range dans l'ordre croissant : $7/10$ - $1/2$ - $12/10$ - $1/10$ - $4/5$:

- Résous le problème suivant.

Pierre a 500 à dépenser pour Noël. Il veut dépenser 50 € par cadeau. Combien peut-il faire de cadeaux ?



Mes petits rituels - semaine 17 jour 2


- Mets la phrase au pluriel

Le train démarre lentement.

- Range dans l'ordre croissant : $7/10$ - $1/2$ - $12/10$ - $1/10$ - $4/5$:

- Résous le problème suivant.

Pierre a 500 à dépenser pour Noël. Il veut dépenser 50 € par cadeau. Combien peut-il faire de cadeaux ?



Mes petits rituels - semaine 17 jour 2


- Mets la phrase au pluriel

Le train démarre lentement.

- Range dans l'ordre croissant : $7/10$ - $1/2$ - $12/10$ - $1/10$ - $4/5$:

- Résous le problème suivant.

Pierre a 500 à dépenser pour Noël. Il veut dépenser 50 € par cadeau. Combien peut-il faire de cadeaux ?



Mes petits rituels - semaine 17 jour 2


- Mets la phrase au pluriel

Le train démarre lentement.

- Range dans l'ordre croissant : $7/10$ - $1/2$ - $12/10$ - $1/10$ - $4/5$:

- Résous le problème suivant.

Pierre a 500 à dépenser pour Noël. Il veut dépenser 50 € par cadeau. Combien peut-il faire de cadeaux ?



Mes petits rituels - semaine 17 jour 3

- Trouve des synonymes des mots suivants.

discuter..... simple..... chagrin.....

potage mettre (un but)

- Conjugue le verbe choisir au présent (niv 1), et à l'imparfait (niv 2)

Tu On

Vous Elles

- Reproduis la figure et colorie-la (facultatif)



Mes petits rituels - semaine 17 jour 3

- Trouve des synonymes des mots suivants.

discuter..... simple..... chagrin.....


potage mettre (un but)

- Conjugue le verbe choisir au présent (niv 1), et à l'imparfait (niv 2)

Tu On

Vous Elles

- Reproduis la figure et colorie-la (facultatif)



Mes petits rituels - semaine 17 jour 3

- Trouve des synonymes des mots suivants.

discuter..... simple..... chagrin.....


potage mettre (un but)

- Conjugue le verbe choisir au présent (niv 1), et à l'imparfait (niv 2)

Tu On

Vous Elles

- Reproduis la figure et colorie-la (facultatif)



Mes petits rituels - semaine 17 jour 3

- Trouve des synonymes des mots suivants.

discuter..... simple..... chagrin.....

potage mettre (un but)

- Conjugue le verbe choisir au présent (niv 1), et à l'imparfait (niv 2)

Tu On

Vous Elles

- Reproduis la figure et colorie-la (facultatif)




Mes petits rituels - semaine 18 jour 1

- Souligne, indique la fonction des différents groupes de mots
- indique la classe des mots indiqués.

La Préhistoire se divise en deux grandes parties.

en : la : parties:

- Pose et calcule : (niv 1) $9\ 873 : 3$ (niv 2)
 $9\ 873 : 12$



- Lis le texte et réponds à la question. Surligne les indices du texte.

Luc partait désormais à la dérive. Sans les rames, il allait être difficile d'atteindre l'île. Or est Luc ?


Mes petits rituels - semaine 18 jour 1

- Souligne, indique la fonction des différents groupes de mots
- indique la classe des mots indiqués.

La Préhistoire se divise en deux grandes parties.

en : la : parties:

- Pose et calcule : (niv 1) $9\ 873 : 3$ (niv 2)
 $9\ 873 : 12$



- Lis le texte et réponds à la question. Surligne les indices du texte.

Luc partait désormais à la dérive. Sans les rames, il allait être difficile d'atteindre l'île. Or est Luc ?


Mes petits rituels - semaine 18 jour 1

- Souligne, indique la fonction des différents groupes de mots
- indique la classe des mots indiqués.

La Préhistoire se divise en deux grandes parties.

en : la : parties:

- Pose et calcule : (niv 1) $9\ 873 : 3$ (niv 2)
 $9\ 873 : 12$



- Lis le texte et réponds à la question. Surligne les indices du texte.

Luc partait désormais à la dérive. Sans les rames, il allait être difficile d'atteindre l'île. Or est Luc ?


Mes petits rituels - semaine 18 jour 1

- Souligne, indique la fonction des différents groupes de mots
- indique la classe des mots indiqués.

La Préhistoire se divise en deux grandes parties.

en : la : parties:

- Pose et calcule : (niv 1) $9\ 873 : 3$ (niv 2)
 $9\ 873 : 12$



- Lis le texte et réponds à la question. Surligne les indices du texte.

Luc partait désormais à la dérive. Sans les rames, il allait être difficile d'atteindre l'île. Or est Luc ?

Mes petits rituels - semaine 18 jour 2

- Mets au pluriel


Ce garçon me semble bien imprudent.

- Range dans l'ordre croissant : $\frac{1}{2}$ - $\frac{1}{10}$ - $\frac{1}{4}$ - $\frac{1}{3}$ - $\frac{1}{7}$ - $\frac{1}{5}$

- Résous le problème suivant.

Dans mon club de football, il y a 29 débutants, 26 poussins, 31 benjamins, 49 minimes, 37 cadets, 25 juniors et 35 seniors.

Combien y a-t-il de licenciés en tout dans mon club ?



Mes petits rituels - semaine 18 jour 2

- Mets au pluriel


Ce garçon me semble bien imprudent.

- Range dans l'ordre croissant : $\frac{1}{2}$ - $\frac{1}{10}$ - $\frac{1}{4}$ - $\frac{1}{3}$ - $\frac{1}{7}$ - $\frac{1}{5}$

- Résous le problème suivant.

Dans mon club de football, il y a 29 débutants, 26 poussins, 31 benjamins, 49 minimes, 37 cadets, 25 juniors et 35 seniors.

Combien y a-t-il de licenciés en tout dans mon club ?



Mes petits rituels - semaine 18 jour 2

- Mets au pluriel


Ce garçon me semble bien imprudent.

- Range dans l'ordre croissant : $\frac{1}{2}$ - $\frac{1}{10}$ - $\frac{1}{4}$ - $\frac{1}{3}$ - $\frac{1}{7}$ - $\frac{1}{5}$

- Résous le problème suivant.

Dans mon club de football, il y a 29 débutants, 26 poussins, 31 benjamins, 49 minimes, 37 cadets, 25 juniors et 35 seniors.

Combien y a-t-il de licenciés en tout dans mon club ?



Mes petits rituels - semaine 18 jour 2

- Mets au pluriel


Ce garçon me semble bien imprudent.

- Range dans l'ordre croissant : $\frac{1}{2}$ - $\frac{1}{10}$ - $\frac{1}{4}$ - $\frac{1}{3}$ - $\frac{1}{7}$ - $\frac{1}{5}$

- Résous le problème suivant.

Dans mon club de football, il y a 29 débutants, 26 poussins, 31 benjamins, 49 minimes, 37 cadets, 25 juniors et 35 seniors.

Combien y a-t-il de licenciés en tout dans mon club ?



Mes petits rituels - semaine 18 jour 3


- Trouve les contraires des mots suivants.

juste..... commencer..... brûlant.....
mouillé..... endormi..... refuser.....

- Conjugue le verbe comprendre au présent (niv 1), à l'imparfait (niv 2)

Je On
Nous Elles

- Reproduis la figure et colorie-la (facultatif)



Mes petits rituels - semaine 18 jour 3


- Trouve les contraires des mots suivants.

juste..... commencer..... brûlant.....
mouillé..... endormi..... refuser.....

- Conjugue le verbe comprendre au présent (niv 1), à l'imparfait (niv 2)

Je On
Nous Elles

- Reproduis la figure et colorie-la (facultatif)



Mes petits rituels - semaine 18 jour 3


- Trouve les contraires des mots suivants.

juste..... commencer..... brûlant.....
mouillé..... endormi..... refuser.....

- Conjugue le verbe comprendre au présent (niv 1), à l'imparfait (niv 2)

Je On
Nous Elles

- Reproduis la figure et colorie-la (facultatif)



Mes petits rituels - semaine 18 jour 3


- Trouve les contraires des mots suivants.

juste..... commencer..... brûlant.....
mouillé..... endormi..... refuser.....

- Conjugue le verbe comprendre au présent (niv 1), à l'imparfait (niv 2)

Je On
Nous Elles

- Reproduis la figure et colorie-la (facultatif)



Mes petits rituels - semaine 19 jour 1



- Souligne, indique la fonction des différents groupes de mots
- indique la classe des mots indiqués.

Durant la dernière minute, le ballon de foot rentre rapidement dans les cages.


dans : dernière:rapidement :

- Pose et calcule : $1654 : 2$ (niv 1) $1654 : 25$ (niv2)

- Lis le texte et réponds à la question. Surligne les indices du texte.

Il étendit son drap de bain et partit rejoindre, sans courir pour ne pas glisser, son camarade qui l'attendait à la marche du grand plongoir...

Où est-il?



Mes petits rituels - semaine 19 jour 1



- Souligne, indique la fonction des différents groupes de mots
- indique la classe des mots indiqués.

Durant la dernière minute, le ballon de foot rentre rapidement dans les cages.


dans : dernière:rapidement :

- Pose et calcule : $1654 : 2$ (niv 1) $1654 : 25$ (niv2)

- Lis le texte et réponds à la question. Surligne les indices du texte.

Il étendit son drap de bain et partit rejoindre, sans courir pour ne pas glisser, son camarade qui l'attendait à la marche du grand plongoir...

Où est-il?



Mes petits rituels - semaine 19 jour 1



- Souligne, indique la fonction des différents groupes de mots
- indique la classe des mots indiqués.

Durant la dernière minute, le ballon de foot rentre rapidement dans les cages.


dans : dernière:rapidement :

- Pose et calcule : $1654 : 2$ (niv 1) $1654 : 25$ (niv2)

- Lis le texte et réponds à la question. Surligne les indices du texte.

Il étendit son drap de bain et partit rejoindre, sans courir pour ne pas glisser, son camarade qui l'attendait à la marche du grand plongoir...

Où est-il?



Mes petits rituels - semaine 19 jour 1



- Souligne, indique la fonction des différents groupes de mots
- indique la classe des mots indiqués.

Durant la dernière minute, le ballon de foot rentre rapidement dans les cages.


dans : dernière:rapidement :

- Pose et calcule : $1654 : 2$ (niv 1) $1654 : 25$ (niv2)

- Lis le texte et réponds à la question. Surligne les indices du texte.

Il étendit son drap de bain et partit rejoindre, sans courir pour ne pas glisser, son camarade qui l'attendait à la marche du grand plongoir...

Où est-il?



Mes petits rituels - semaine 19 jour 2


- Mets au pluriel

vieil joujou..... vœu..... os.....

- Range dans l'ordre croissant : $7/4 - 3/4 - 9/4 - 1/4 - 5/4 - 1$

- Résous le problème suivant.

Un camionneur transporte 75000 bouteilles d'eau. Il en dépose 36450 dans un supermarché. Combien de bouteilles d'eau reste-t-il dans le camion?



Mes petits rituels - semaine 19 jour 2


- Mets au pluriel

vieil joujou..... vœu..... os.....

- Range dans l'ordre croissant : $7/4 - 3/4 - 9/4 - 1/4 - 5/4 - 1$

- Résous le problème suivant.

Un camionneur transporte 75000 bouteilles d'eau. Il en dépose 36450 dans un supermarché. Combien de bouteilles d'eau reste-t-il dans le camion?



Mes petits rituels - semaine 19 jour 2


- Mets au pluriel

vieil joujou..... vœu..... os.....

- Range dans l'ordre croissant : $7/4 - 3/4 - 9/4 - 1/4 - 5/4 - 1$

- Résous le problème suivant.

Un camionneur transporte 75000 bouteilles d'eau. Il en dépose 36450 dans un supermarché. Combien de bouteilles d'eau reste-t-il dans le camion?



Mes petits rituels - semaine 19 jour 2


- Mets au pluriel

vieil joujou..... vœu..... os.....

- Range dans l'ordre croissant : $7/4 - 3/4 - 9/4 - 1/4 - 5/4 - 1$

- Résous le problème suivant.

Un camionneur transporte 75000 bouteilles d'eau. Il en dépose 36450 dans un supermarché. Combien de bouteilles d'eau reste-t-il dans le camion?



Mes petits rituels - semaine 19 jour 3

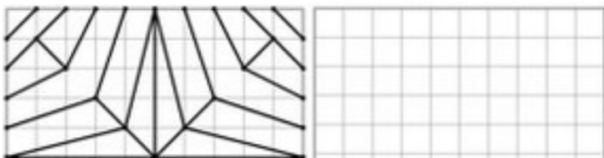
- Trouve les contraires des mots suivants.

intelligent..... loin travailleur.....
possible..... départ..... normal.....

- Conjugue le verbe partir au présent (niv 1) et à l'imparfait (niv 2)

Je On
Nous Elles

- Complète la frise et colorie-la (facultatif)



Mes petits rituels - semaine 19 jour 3

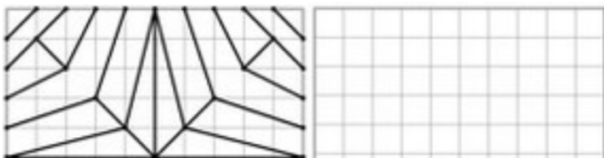
- Trouve les contraires des mots suivants.

intelligent..... loin travailleur.....
possible..... départ..... normal.....

- Conjugue le verbe partir au présent (niv 1) et à l'imparfait (niv 2)

Je On
Nous Elles

- Complète la frise et colorie-la (facultatif)



Mes petits rituels - semaine 19 jour 3

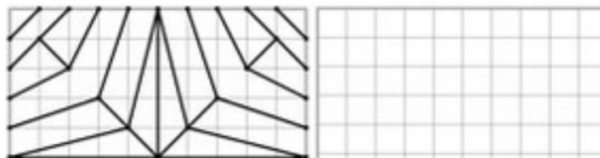
- Trouve les contraires des mots suivants.

intelligent..... loin travailleur.....
possible..... départ..... normal.....

- Conjugue le verbe partir au présent (niv 1) et à l'imparfait (niv 2)

Je On
Nous Elles

- Complète la frise et colorie-la (facultatif)



Mes petits rituels - semaine 19 jour 3

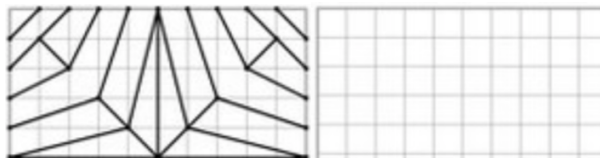
- Trouve les contraires des mots suivants.

intelligent..... loin travailleur.....
possible..... départ..... normal.....

- Conjugue le verbe partir au présent (niv 1) et à l'imparfait (niv 2)

Je On
Nous Elles

- Complète la frise et colorie-la (facultatif)



Mes petits rituels - semaine 20 jour 1




- Souligne, indique la fonction des différents groupes de mots
- indique la classe des mots indiqués.

Les astronautes, après deux heures d'attente, ont rejoint la station spatiale..

après : deux: station :

- Pose et calcule : $2832 : 2$ (niv 1) $2832 : 12$ (niv2)
- Lis le texte et réponds à la question. Surligne les indices du texte.



Sur les quais, des hommes déchargeaient des cages de poissons, de crustacés ou autres proies arrachées à la mer... Où sont-ils ?

Mes petits rituels - semaine 20 jour 1

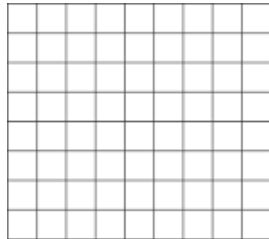


- Souligne, indique la fonction des différents groupes de mots
- indique la classe des mots indiqués.

Les astronautes, après deux heures d'attente, ont rejoint la station spatiale..

après : deux: station :

- Pose et calcule : $2832 : 2$ (niv 1) $2832 : 12$ (niv2)
- Lis le texte et réponds à la question. Surligne les indices du texte.



Sur les quais, des hommes déchargeaient des cages de poissons, de crustacés ou autres proies arrachées à la mer... Où sont-ils ?

Mes petits rituels - semaine 20 jour 1




- Souligne, indique la fonction des différents groupes de mots
- indique la classe des mots indiqués.

Les astronautes, après deux heures d'attente, ont rejoint la station spatiale..

après : deux: station :

- Pose et calcule : $2832 : 2$ (niv 1) $2832 : 12$ (niv2)
- Lis le texte et réponds à la question. Surligne les indices du texte.



Sur les quais, des hommes déchargeaient des cages de poissons, de crustacés ou autres proies arrachées à la mer... Où sont-ils ?

Mes petits rituels - semaine 20 jour 1




- Souligne, indique la fonction des différents groupes de mots
- indique la classe des mots indiqués.

Les astronautes, après deux heures d'attente, ont rejoint la station spatiale..

après : deux: station :

- Pose et calcule : $2832 : 2$ (niv 1) $2832 : 12$ (niv2)
- Lis le texte et réponds à la question. Surligne les indices du texte.



Sur les quais, des hommes déchargeaient des cages de poissons, de crustacés ou autres proies arrachées à la mer... Où sont-ils ?

Mes petits rituels - semaine 20 jour 2




- Trouve deux mots particuliers

insecte jeu collectif..... outils.....

- Range dans l'ordre croissant : $2/5 - 2/3 - 2/9 - 2/4 - 2/10 - 2/7$

- Résous le problème suivant.

Un instituteur dispose d'un budget de 45€ par élèves pour acheter des fournitures scolaires. Il y'a 29 élèves dans sa classe. Quel est son budget total?



Mes petits rituels - semaine 20 jour 2




- Trouve deux mots particuliers

insecte jeu collectif..... outils.....

- Range dans l'ordre croissant : $2/5 - 2/3 - 2/9 - 2/4 - 2/10 - 2/7$

- Résous le problème suivant.

Un instituteur dispose d'un budget de 45€ par élèves pour acheter des fournitures scolaires. Il y'a 29 élèves dans sa classe. Quel est son budget total?



Mes petits rituels - semaine 20 jour 2




- Trouve deux mots particuliers

insecte jeu collectif..... outils.....

- Range dans l'ordre croissant : $2/5 - 2/3 - 2/9 - 2/4 - 2/10 - 2/7$

- Résous le problème suivant.

Un instituteur dispose d'un budget de 45€ par élèves pour acheter des fournitures scolaires. Il y'a 29 élèves dans sa classe. Quel est son budget total?



Mes petits rituels - semaine 20 jour 2




- Trouve deux mots particuliers

insecte jeu collectif..... outils.....

- Range dans l'ordre croissant : $2/5 - 2/3 - 2/9 - 2/4 - 2/10 - 2/7$

- Résous le problème suivant.

Un instituteur dispose d'un budget de 45€ par élèves pour acheter des fournitures scolaires. Il y'a 29 élèves dans sa classe. Quel est son budget total?



Mes petits rituels - semaine 20 jour 3

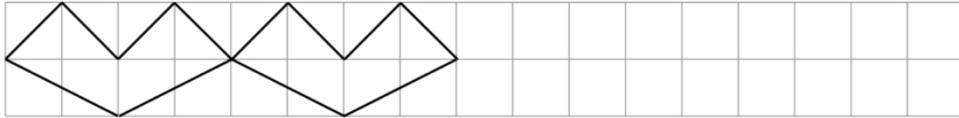
- Trouve le féminin des mots suivants

tigre neveu..... serveur.....
cuisinier..... voleur..... coq.....

- Conjugue le verbe protéger à l'imparfait

Je Il
Nous Elles

- Complète la frise et colorie-la (facultatif)



Mes petits rituels - semaine 20 jour 3

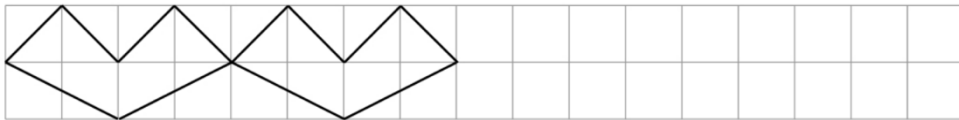
- Trouve le féminin des mots suivants

tigre neveu..... serveur.....
cuisinier..... voleur..... coq.....

- Conjugue le verbe protéger à l'imparfait

Je Il
Nous Elles

- Complète la frise et colorie-la (facultatif)



Mes petits rituels - semaine 20 jour 3

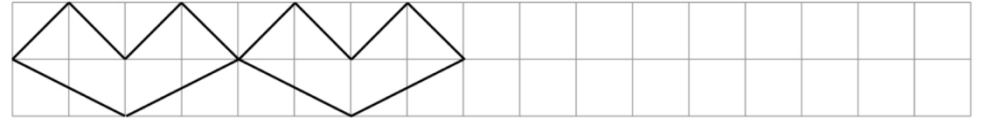
- Trouve le féminin des mots suivants

tigre neveu..... serveur.....
cuisinier..... voleur..... coq.....

- Conjugue le verbe protéger à l'imparfait

Je Il
Nous Elles

- Complète la frise et colorie-la (facultatif)



Mes petits rituels - semaine 20 jour 3

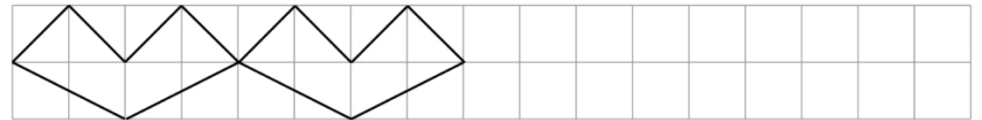
- Trouve le féminin des mots suivants

tigre neveu..... serveur.....
cuisinier..... voleur..... coq.....

- Conjugue le verbe protéger à l'imparfait

Je Il
Nous Elles

- Complète la frise et colorie-la (facultatif)



Mes petits rituels - semaine 21 jour 1

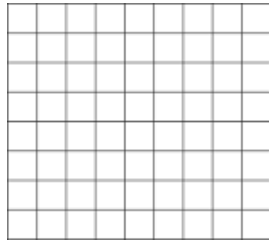


- Souligne, indique la fonction des différents groupes de mots
- indique la classe des mots indiqués

Dans les forêts de montagne vivent de nombreuses meutes de loups..

dans : forêts :meutes :

- Pose et calcule : $4595 : 5$
- Lis le texte et réponds à la question. Surligne les indices du texte.



Après avoir lu la 4^{ème} de couverture des deux ouvrages, il en choisit un et se dirigea vers le comptoir où un monsieur scanna son livre. Où cela se passe-t-il ?

Mes petits rituels - semaine 21 jour 1




- Souligne, indique la fonction des différents groupes de mots
- indique la classe des mots indiqués

Dans les forêts de montagne vivent de nombreuses meutes de loups..

dans : forêts :meutes :

- Pose et calcule : $4595 : 5$
- Lis le texte et réponds à la question. Surligne les indices du texte.



Après avoir lu la 4^{ème} de couverture des deux ouvrages, il en choisit un et se dirigea vers le comptoir où un monsieur scanna son livre. Où cela se passe-t-il ?

Mes petits rituels - semaine 21 jour 1

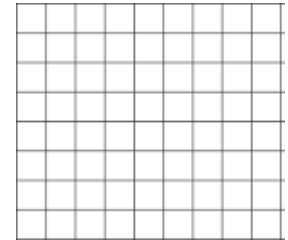


- Souligne, indique la fonction des différents groupes de mots
- indique la classe des mots indiqués

Dans les forêts de montagne vivent de nombreuses meutes de loups..

dans : forêts :meutes :

- Pose et calcule : $4595 : 5$
- Lis le texte et réponds à la question. Surligne les indices du texte.



Après avoir lu la 4^{ème} de couverture des deux ouvrages, il en choisit un et se dirigea vers le comptoir où un monsieur scanna son livre. Où cela se passe-t-il ?

Mes petits rituels - semaine 21 jour 1




- Souligne, indique la fonction des différents groupes de mots
- indique la classe des mots indiqués

Dans les forêts de montagne vivent de nombreuses meutes de loups..

dans : forêts :meutes :

- Pose et calcule : $4595 : 5$
- Lis le texte et réponds à la question. Surligne les indices du texte.



Après avoir lu la 4^{ème} de couverture des deux ouvrages, il en choisit un et se dirigea vers le comptoir où un monsieur scanna son livre. Où cela se passe-t-il ?

Mes petits rituels - semaine 21 jour 2



- Complète avec « a », « as » ou « à ».


..... la fête on appris..... danser chanter.

- Compare.

$\frac{2}{4}$ $\frac{3}{4}$ $\frac{1}{5}$ $\frac{1}{7}$ 3..... $\frac{16}{8}$
 $\frac{2}{6}$ $\frac{5}{10}$ $\frac{3}{2}$ $\frac{5}{10}$ $\frac{2}{2}$ $\frac{9}{9}$

- Résous le problème suivant.

Marie achète 6 serviettes de plage pour 84€.
Quel est le prix d'une serviette?



Mes petits rituels - semaine 21 jour 2



- Complète avec « a », « as » ou « à ».


..... la fête on appris..... danser chanter.

- Compare.

$\frac{2}{4}$ $\frac{3}{4}$ $\frac{1}{5}$ $\frac{1}{7}$ 3..... $\frac{16}{8}$
 $\frac{2}{6}$ $\frac{5}{10}$ $\frac{3}{2}$ $\frac{5}{10}$ $\frac{2}{2}$ $\frac{9}{9}$

- Résous le problème suivant.

Marie achète 6 serviettes de plage pour 84€.
Quel est le prix d'une serviette?



Mes petits rituels - semaine 21 jour 2



- Complète avec « a », « as » ou « à ».


..... la fête on appris..... danser chanter.

- Compare.

$\frac{2}{4}$ $\frac{3}{4}$ $\frac{1}{5}$ $\frac{1}{7}$ 3..... $\frac{16}{8}$
 $\frac{2}{6}$ $\frac{5}{10}$ $\frac{3}{2}$ $\frac{5}{10}$ $\frac{2}{2}$ $\frac{9}{9}$

- Résous le problème suivant.

Marie achète 6 serviettes de plage pour 84€.
Quel est le prix d'une serviette?



Mes petits rituels - semaine 21 jour 2



- Complète avec « a », « as » ou « à ».


..... la fête on appris..... danser chanter.

- Compare.

$\frac{2}{4}$ $\frac{3}{4}$ $\frac{1}{5}$ $\frac{1}{7}$ 3..... $\frac{16}{8}$
 $\frac{2}{6}$ $\frac{5}{10}$ $\frac{3}{2}$ $\frac{5}{10}$ $\frac{2}{2}$ $\frac{9}{9}$

- Résous le problème suivant.

Marie achète 6 serviettes de plage pour 84€.
Quel est le prix d'une serviette?



Mes petits rituels - semaine 21 jour 3



- Trouve le féminin des mots suivants

monsieur..... neuf..... guerrier.....
boulangier..... conducteur..... serein

- Conjugue le verbe calculer au passé composé

Tu Il

Vous Elles

- Complète la frise et colorie-la (facultatif)



Mes petits rituels - semaine 21 jour 3



- Trouve le féminin des mots suivants

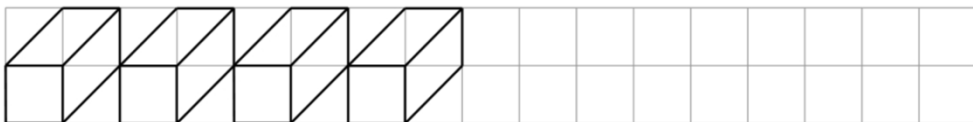
monsieur..... neuf..... guerrier.....
boulangier..... conducteur..... serein

- Conjugue le verbe calculer au passé composé

Tu Il

Vous Elles

- Complète la frise et colorie-la (facultatif)



Mes petits rituels - semaine 21 jour 3



- Trouve le féminin des mots suivants

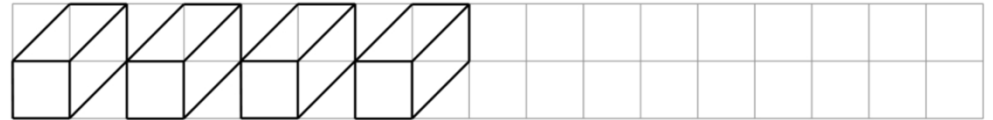
monsieur..... neuf..... guerrier.....
boulangier..... conducteur..... serein

- Conjugue le verbe calculer au passé composé

Tu Il

Vous Elles

- Complète la frise et colorie-la (facultatif)



Mes petits rituels - semaine 21 jour 3



- Trouve le féminin des mots suivants

monsieur..... neuf..... guerrier.....
boulangier..... conducteur..... serein

- Conjugue le verbe calculer au passé composé

Tu Il

Vous Elles

- Complète la frise et colorie-la (facultatif)



Mes petits rituels - semaine 22 jour 1

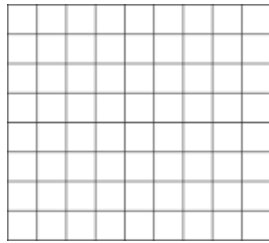


- Souligne, indique la fonction des différents groupes de mots
- indique la classe des mots indiqués

Du haut de la montagne, les moutons semblent minuscules.

du: haut : minuscules :

- Pose et calcule : $68\,467 - 59\,538$
- Lis le texte et réponds à la question. Surligne les indices du texte.



Peul au pied du cratère, isolé dans une simple combinaison d'amiante, il prit la température des gaz dégagés par la lave. La montagne de feu risquait fort d'entrer en éruption... **Qui est-il ?**

Mes petits rituels - semaine 22 jour 1




- Souligne, indique la fonction des différents groupes de mots
- indique la classe des mots indiqués

Du haut de la montagne, les moutons semblent minuscules.

du: haut : minuscules :

- Pose et calcule : $68\,467 - 59\,538$
- Lis le texte et réponds à la question. Surligne les indices du texte.



Peul au pied du cratère, isolé dans une simple combinaison d'amiante, il prit la température des gaz dégagés par la lave. La montagne de feu risquait fort d'entrer en éruption... **Qui est-il ?**

Mes petits rituels - semaine 22 jour 1




- Souligne, indique la fonction des différents groupes de mots
- indique la classe des mots indiqués

Du haut de la montagne, les moutons semblent minuscules.

du: haut : minuscules :

- Pose et calcule : $68\,467 - 59\,538$
- Lis le texte et réponds à la question. Surligne les indices du texte.



Peul au pied du cratère, isolé dans une simple combinaison d'amiante, il prit la température des gaz dégagés par la lave. La montagne de feu risquait fort d'entrer en éruption... **Qui est-il ?**

Mes petits rituels - semaine 22 jour 1




- Souligne, indique la fonction des différents groupes de mots
- indique la classe des mots indiqués

Du haut de la montagne, les moutons semblent minuscules.

du: haut : minuscules :

- Pose et calcule : $68\,467 - 59\,538$
- Lis le texte et réponds à la question. Surligne les indices du texte.



Peul au pied du cratère, isolé dans une simple combinaison d'amiante, il prit la température des gaz dégagés par la lave. La montagne de feu risquait fort d'entrer en éruption... **Qui est-il ?**

Mes petits rituels - semaine 22 jour 2

- Complète avec « et », « es » ou « est ».

Le coq réveillé tu énervé par son cocorico .


- Compare.

5/2.....5/3 6/6.....1 3/4.....4/3
3/5.....4/5 9/7.....5/5 4/9.....4/2

- Résous le problème suivant.

Coline a rendez-vous à la bibliothèque avec Amina à 14h. Elle arrive avec 20 min d'avance.

À quelle heure arrive-t-elle ?



Mes petits rituels - semaine 22 jour 2

- Complète avec « et », « es » ou « est ».

Le coq réveillé tu énervé par son cocorico .


- Compare.

5/2.....5/3 6/6.....1 3/4.....4/3
3/5.....4/5 9/7.....5/5 4/9.....4/2

- Résous le problème suivant.

Coline a rendez-vous à la bibliothèque avec Amina à 14h. Elle arrive avec 20 min d'avance.

À quelle heure arrive-t-elle ?



Mes petits rituels - semaine 22 jour 2

- Complète avec « et », « es » ou « est ».

Le coq réveillé tu énervé par son cocorico .


- Compare.

5/2.....5/3 6/6.....1 3/4.....4/3
3/5.....4/5 9/7.....5/5 4/9.....4/2

- Résous le problème suivant.

Coline a rendez-vous à la bibliothèque avec Amina à 14h. Elle arrive avec 20 min d'avance.

À quelle heure arrive-t-elle ?



Mes petits rituels - semaine 22 jour 2

- Complète avec « et », « es » ou « est ».

Le coq réveillé tu énervé par son cocorico .


- Compare.

5/2.....5/3 6/6.....1 3/4.....4/3
3/5.....4/5 9/7.....5/5 4/9.....4/2

- Résous le problème suivant.

Coline a rendez-vous à la bibliothèque avec Amina à 14h. Elle arrive avec 20 min d'avance.

À quelle heure arrive-t-elle ?



Mes petits rituels - semaine 22 jour 3

- Trouve Le nom générique correspondant à ces noms particuliers.

Poupée, voiture, playmobil :

cheval, chien, éléphant :

- Conjugue le verbe coiffer au passé composé

Je Elle

Vous Ils

- Complète la frise et colorie-la (facultatif)



Mes petits rituels - semaine 22 jour 3

- Trouve Le nom générique correspondant à ces noms particuliers.

Poupée, voiture, playmobil :

cheval, chien, éléphant :

- Conjugue le verbe coiffer au passé composé

Je Elle

Vous Ils

- Complète la frise et colorie-la (facultatif)



Mes petits rituels - semaine 22 jour 3

- Trouve Le nom générique correspondant à ces noms particuliers.

Poupée, voiture, playmobil :

cheval, chien, éléphant :

- Conjugue le verbe coiffer au passé composé

Je Elle

Vous Ils

- Complète la frise et colorie-la (facultatif)



Mes petits rituels - semaine 22 jour 3

- Trouve Le nom générique correspondant à ces noms particuliers.

Poupée, voiture, playmobil :

cheval, chien, éléphant :

- Conjugue le verbe coiffer au passé composé

Je Elle

Vous Ils

- Complète la frise et colorie-la (facultatif)



Mes petits rituels - semaine 23 jour 1

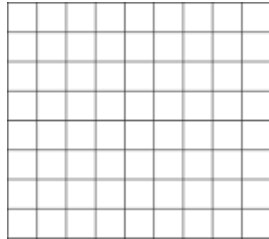


- Souligne, indique la fonction des différents groupes de mots
- indique la classe des mots indiqués

Jeanne d'Arc est une héroïne de l'Histoire de France.

Jeanne : de : France :

- Pose et calcule : 546×69 (niv 1) $5,46 \times 6,9$ (niv 2)
- Lis le texte et réponds à la question. Surligne les indices du texte.



Pour lui faire plaisir, donne-lui un peu de salade. Mais si tu t'approches de trop, elle rentre dans sa carapace ! De qui parle-t-on ?

Mes petits rituels - semaine 23 jour 1




- Souligne, indique la fonction des différents groupes de mots
- indique la classe des mots indiqués

Jeanne d'Arc est une héroïne de l'Histoire de France.

Jeanne : de : France :

- Pose et calcule : 546×69 (niv 1) $5,46 \times 6,9$ (niv 2)
- Lis le texte et réponds à la question. Surligne les indices du texte.



Pour lui faire plaisir, donne-lui un peu de salade. Mais si tu t'approches de trop, elle rentre dans sa carapace ! De qui parle-t-on ?

Mes petits rituels - semaine 23 jour 1

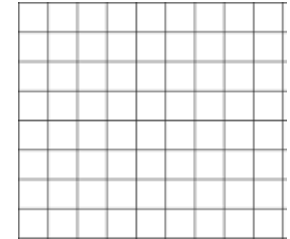


- Souligne, indique la fonction des différents groupes de mots
- indique la classe des mots indiqués

Jeanne d'Arc est une héroïne de l'Histoire de France.

Jeanne : de : France :

- Pose et calcule : 546×69 (niv 1) $5,46 \times 6,9$ (niv 2)
- Lis le texte et réponds à la question. Surligne les indices du texte.



Pour lui faire plaisir, donne-lui un peu de salade. Mais si tu t'approches de trop, elle rentre dans sa carapace ! De qui parle-t-on ?

Mes petits rituels - semaine 23 jour 1




- Souligne, indique la fonction des différents groupes de mots
- indique la classe des mots indiqués

Jeanne d'Arc est une héroïne de l'Histoire de France.

Jeanne : de : France :

- Pose et calcule : 546×69 (niv 1) $5,46 \times 6,9$ (niv 2)
- Lis le texte et réponds à la question. Surligne les indices du texte.



Pour lui faire plaisir, donne-lui un peu de salade. Mais si tu t'approches de trop, elle rentre dans sa carapace ! De qui parle-t-on ?

Mes petits rituels - semaine 23 jour 2

- Complète avec « son » ou « sont ».

Ecoute ce depuis poste radio, ce des violons.


- Écris en chiffre.

Quarante-cinq-millions-trois-mille-douze :

80 000 000 + 30 000 + 600 + 70 + 9 :

- Résous le problème suivant.

Un tube contenant 8 pastilles à la menthe pèse
72g. Quel est le poids d'une pastille?



Mes petits rituels - semaine 23 jour 2

- Complète avec « son » ou « sont ».

Ecoute ce depuis poste radio, ce des violons.


- Écris en chiffre.

Quarante-cinq-millions-trois-mille-douze :

80 000 000 + 30 000 + 600 + 70 + 9 :

- Résous le problème suivant.

Un tube contenant 8 pastilles à la menthe pèse
72g. Quel est le poids d'une pastille?



Mes petits rituels - semaine 23 jour 2

- Complète avec « son » ou « sont ».

Ecoute ce depuis poste radio, ce des violons.


- Écris en chiffre.

Quarante-cinq-millions-trois-mille-douze :

80 000 000 + 30 000 + 600 + 70 + 9 :

- Résous le problème suivant.

Un tube contenant 8 pastilles à la menthe pèse
72g. Quel est le poids d'une pastille?



Mes petits rituels - semaine 23 jour 2

- Complète avec « son » ou « sont ».

Ecoute ce depuis poste radio, ce des violons.


- Écris en chiffre.

Quarante-cinq-millions-trois-mille-douze :

80 000 000 + 30 000 + 600 + 70 + 9 :

- Résous le problème suivant.

Un tube contenant 8 pastilles à la menthe pèse
72g. Quel est le poids d'une pastille?



Mes petits rituels - semaine 23 jour 3

- Trouve 3 noms particuliers pour chaque nom générique..

aliments :

jeux de plage :

- Conjugue le verbe être au passé composé (niv 1) et au passé simple (niv 2).

Tu Elle

Nous Ils

- Complète la frise et colorie-la (facultatif)



Mes petits rituels - semaine 23 jour 3

- Trouve 3 noms particuliers pour chaque nom générique..

aliments :

jeux de plage :

- Conjugue le verbe être au passé composé (niv 1) et au passé simple (niv 2).

Tu Elle

Nous Ils

- Complète la frise et colorie-la (facultatif)



Mes petits rituels - semaine 23 jour 3

- Trouve 3 noms particuliers pour chaque nom générique..

aliments :

jeux de plage :

- Conjugue le verbe être au passé composé (niv 1) et au passé simple (niv 2).

Tu Elle

Nous Ils

- Complète la frise et colorie-la (facultatif)



Mes petits rituels - semaine 23 jour 3

- Trouve 3 noms particuliers pour chaque nom générique..

aliments :

jeux de plage :

- Conjugue le verbe être au passé composé (niv 1) et au passé simple (niv 2).

Tu Elle

Nous Ils

- Complète la frise et colorie-la (facultatif)



Mes petits rituels - semaine 24 jour 1



- Souligne, indique la fonction des différents groupes de mots
- indique la classe des mots indiqués

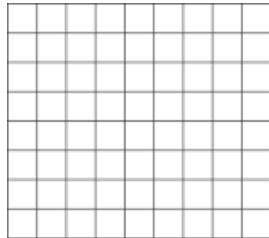
Atrès est le dieu de la guerre dans la mythologie grecque.

dieu: grecque: du :

- Pose et calcule : $7545 : 4$

- Lis le texte et réponds à la question. Surligne les indices du texte.

Le chantier est bien avancé. M. Agora domine toute la construction et, les mains sur les manettes, il surveille ce bloc de béton accroché à l'engin qu'il conduit. **Que conduit-il ?**



Mes petits rituels - semaine 24 jour 1



- Souligne, indique la fonction des différents groupes de mots
- indique la classe des mots indiqués


Atrès est le dieu de la guerre dans la mythologie grecque.

dieu: grecque: du :

- Pose et calcule : $7545 : 4$

- Lis le texte et réponds à la question. Surligne les indices du texte.

Le chantier est bien avancé. M. Agora domine toute la construction et, les mains sur les manettes, il surveille ce bloc de béton accroché à l'engin qu'il conduit. **Que conduit-il ?**



Mes petits rituels - semaine 24 jour 1



- Souligne, indique la fonction des différents groupes de mots
- indique la classe des mots indiqués


Atrès est le dieu de la guerre dans la mythologie grecque.

dieu: grecque: du :

- Pose et calcule : $7545 : 4$

- Lis le texte et réponds à la question. Surligne les indices du texte.

Le chantier est bien avancé. M. Agora domine toute la construction et, les mains sur les manettes, il surveille ce bloc de béton accroché à l'engin qu'il conduit. **Que conduit-il ?**



Mes petits rituels - semaine 24 jour 1



- Souligne, indique la fonction des différents groupes de mots
- indique la classe des mots indiqués


Atrès est le dieu de la guerre dans la mythologie grecque.

dieu: grecque: du :

- Pose et calcule : $7545 : 4$

- Lis le texte et réponds à la question. Surligne les indices du texte.

Le chantier est bien avancé. M. Agora domine toute la construction et, les mains sur les manettes, il surveille ce bloc de béton accroché à l'engin qu'il conduit. **Que conduit-il ?**



Mes petits rituels - semaine 24 jour 2

- Complète avec « on » ou « ont ».

..... a de la chance, ils perdu le match .


- Écris sous la forme d'un nombre décimal.

23/10 : 345/100 :

98/100 : 987 / 1000 :

- Résous le problème suivant.

Dans une baguette de bois de 3 m de long, on coupe un morceau de 70 cm. Quelle est la longueur de baguette restante ?



.....

Mes petits rituels - semaine 24 jour 2

- Complète avec « on » ou « ont ».

..... a de la chance, ils perdu le match .


- Écris sous la forme d'un nombre décimal.

23/10 : 345/100 :

98/100 : 987 / 1000 :

- Résous le problème suivant.

Dans une baguette de bois de 3 m de long, on coupe un morceau de 70 cm. Quelle est la longueur de baguette restante ?



.....

Mes petits rituels - semaine 24 jour 2

- Complète avec « on » ou « ont ».

..... a de la chance, ils perdu le match .


- Écris sous la forme d'un nombre décimal.

23/10 : 345/100 :

98/100 : 987 / 1000 :

- Résous le problème suivant.

Dans une baguette de bois de 3 m de long, on coupe un morceau de 70 cm. Quelle est la longueur de baguette restante ?



.....

Mes petits rituels - semaine 24 jour 2

- Complète avec « on » ou « ont ».

..... a de la chance, ils perdu le match .


- Écris sous la forme d'un nombre décimal.

23/10 : 345/100 :

98/100 : 987 / 1000 :

- Résous le problème suivant.

Dans une baguette de bois de 3 m de long, on coupe un morceau de 70 cm. Quelle est la longueur de baguette restante ?



.....

Mes petits rituels - semaine 24 jour 3

- Trouve des homonymes à ces mots :

cou : amande :

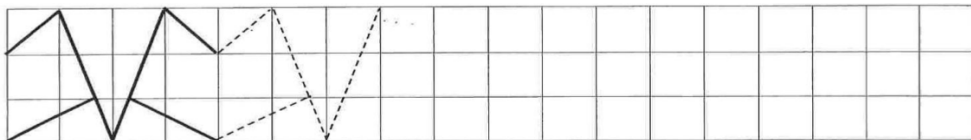
compter : cour :

- Conjugue le verbe prendre au passé composé (niv 1) et au passé simple (niv 2).

Je Il

Nous Elles

- Complète la frise et colorie-la (facultatif)



Mes petits rituels - semaine 24 jour 3

- Trouve des homonymes à ces mots :

cou : amande :

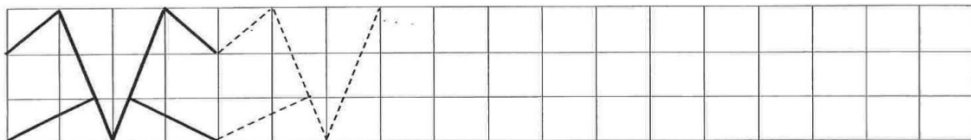
compter : cour :

- Conjugue le verbe prendre au passé composé (niv 1) et au passé simple (niv 2).

Je Il

Nous Elles

- Complète la frise et colorie-la (facultatif)



Mes petits rituels - semaine 24 jour 3

- Trouve des homonymes à ces mots :

cou : amande :

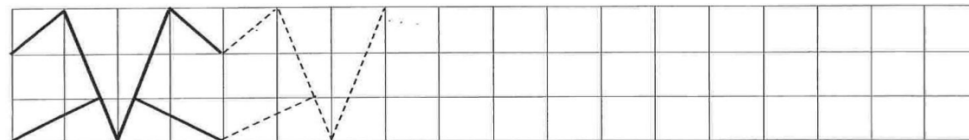
compter : cour :

- Conjugue le verbe prendre au passé composé (niv 1) et au passé simple (niv 2).

Je Il

Nous Elles

- Complète la frise et colorie-la (facultatif)



Mes petits rituels - semaine 24 jour 3

- Trouve des homonymes à ces mots :

cou : amande :

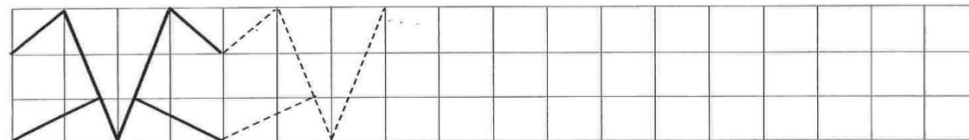
compter : cour :

- Conjugue le verbe prendre au passé composé (niv 1) et au passé simple (niv 2).

Je Il

Nous Elles

- Complète la frise et colorie-la (facultatif)



Mes petits rituels - semaine 25 jour 1




- Souligne, indique la fonction des différents groupes de mots
- indique la classe des mots indiqués

Le cuisinier doit vite sortir les plats du four brûlant.

vite : doit : brûlant :

- Pose et calcule : $1412 : 22$
- Lis le texte et réponds à la question. Surligne les indices du texte.



Laura est ravie. Le moniteur sort de la voiture et la félicite. Maintenant elle n'aura plus besoin de sa mère pour la conduire au gymnase. **Pourquoi est-elle contente ?**

Mes petits rituels - semaine 25 jour 1




- Souligne, indique la fonction des différents groupes de mots
- indique la classe des mots indiqués

Le cuisinier doit vite sortir les plats du four brûlant.

vite : doit : brûlant :

- Pose et calcule : $1412 : 22$
- Lis le texte et réponds à la question. Surligne les indices du texte.



Laura est ravie. Le moniteur sort de la voiture et la félicite. Maintenant elle n'aura plus besoin de sa mère pour la conduire au gymnase. **Pourquoi est-elle contente ?**

Mes petits rituels - semaine 25 jour 1




- Souligne, indique la fonction des différents groupes de mots
- indique la classe des mots indiqués

Le cuisinier doit vite sortir les plats du four brûlant.

vite : doit : brûlant :

- Pose et calcule : $1412 : 22$
- Lis le texte et réponds à la question. Surligne les indices du texte.



Laura est ravie. Le moniteur sort de la voiture et la félicite. Maintenant elle n'aura plus besoin de sa mère pour la conduire au gymnase. **Pourquoi est-elle contente ?**

Mes petits rituels - semaine 25 jour 1




- Souligne, indique la fonction des différents groupes de mots
- indique la classe des mots indiqués

Le cuisinier doit vite sortir les plats du four brûlant.

vite : doit : brûlant :

- Pose et calcule : $1412 : 22$
- Lis le texte et réponds à la question. Surligne les indices du texte.



Laura est ravie. Le moniteur sort de la voiture et la félicite. Maintenant elle n'aura plus besoin de sa mère pour la conduire au gymnase. **Pourquoi est-elle contente ?**

Mes petits rituels - semaine 25 jour 2

- Complète avec « se » ou « ce ».

..... garçon ne sait manger proprement, il tâche et salit à chaque repas.


- Écris sous la forme d'une fraction décimale.

0,4 : 2,6 :

0,07 : 7,02 :

- Résous le problème suivant.

La cour d'une école a la forme d'un carré de 27 m de côté. Quel est son périmètre ?



Mes petits rituels - semaine 25 jour 2

- Complète avec « se » ou « ce ».

..... garçon ne sait manger proprement, il tâche et salit à chaque repas.


- Écris sous la forme d'une fraction décimale.

0,4 : 2,6 :

0,07 : 7,02 :

- Résous le problème suivant.

La cour d'une école a la forme d'un carré de 27 m de côté. Quel est son périmètre ?



Mes petits rituels - semaine 25 jour 2

- Complète avec « se » ou « ce ».

..... garçon ne sait manger proprement, il tâche et salit à chaque repas.


- Écris sous la forme d'une fraction décimale.

0,4 : 2,6 :

0,07 : 7,02 :

- Résous le problème suivant.

La cour d'une école a la forme d'un carré de 27 m de côté. Quel est son périmètre ?



Mes petits rituels - semaine 25 jour 2

- Complète avec « se » ou « ce ».

..... garçon ne sait manger proprement, il tâche et salit à chaque repas.


- Écris sous la forme d'une fraction décimale.

0,4 : 2,6 :

0,07 : 7,02 :

- Résous le problème suivant.

La cour d'une école a la forme d'un carré de 27 m de côté. Quel est son périmètre ?



Mes petits rituels - semaine 25 jour 3

- Trouve 3 mots de la même famille que les mots suivants.

café :


chance :

- Conjugue le verbe prendre au futur..

Tu Il

Vous Elles

- Complète la frise et colorie-la (facultatif)



Mes petits rituels - semaine 25 jour 3

- Trouve 3 mots de la même famille que les mots suivants.

café :

chance :

- Conjugue le verbe prendre au futur..

Tu Il

Vous Elles

- Complète la frise et colorie-la (facultatif)



Mes petits rituels - semaine 25 jour 3

- Trouve 3 mots de la même famille que les mots suivants.

café :


chance :

- Conjugue le verbe prendre au futur..

Tu Il

Vous Elles

- Complète la frise et colorie-la (facultatif)



Mes petits rituels - semaine 25 jour 3

- Trouve 3 mots de la même famille que les mots suivants.

café :

chance :

- Conjugue le verbe prendre au futur..

Tu Il

Vous Elles

- Complète la frise et colorie-la (facultatif)



Mes petits rituels - semaine 26 jour 1




- Souligne, indique la fonction des différents groupes de mots
- indique la classe des mots indiqués

Le Corcovado est le lieu le plus visité de Rio de Janeiro.

lieu : de : visité :

- Pose et calcule : $545,48 + 234,7$
- Lis le texte et réponds à la question. Surligne les indices du texte.



Tous les mercredis, Tom enfle ses ballons et sa bombe avant d'aller retrouver sa monitrice dans le manège. Quelle activité pratique-t-il ?

Mes petits rituels - semaine 26 jour 1




- Souligne, indique la fonction des différents groupes de mots
- indique la classe des mots indiqués

Le Corcovado est le lieu le plus visité de Rio de Janeiro.

lieu : de : visité :

- Pose et calcule : $545,48 + 234,7$
- Lis le texte et réponds à la question. Surligne les indices du texte.



Tous les mercredis, Tom enfle ses ballons et sa bombe avant d'aller retrouver sa monitrice dans le manège. Quelle activité pratique-t-il ?

Mes petits rituels - semaine 26 jour 1




- Souligne, indique la fonction des différents groupes de mots
- indique la classe des mots indiqués

Le Corcovado est le lieu le plus visité de Rio de Janeiro.

lieu : de : visité :

- Pose et calcule : $545,48 + 234,7$
- Lis le texte et réponds à la question. Surligne les indices du texte.



Tous les mercredis, Tom enfle ses ballons et sa bombe avant d'aller retrouver sa monitrice dans le manège. Quelle activité pratique-t-il ?

Mes petits rituels - semaine 26 jour 1




- Souligne, indique la fonction des différents groupes de mots
- indique la classe des mots indiqués

Le Corcovado est le lieu le plus visité de Rio de Janeiro.

lieu : de : visité :

- Pose et calcule : $545,48 + 234,7$
- Lis le texte et réponds à la question. Surligne les indices du texte.



Tous les mercredis, Tom enfle ses ballons et sa bombe avant d'aller retrouver sa monitrice dans le manège. Quelle activité pratique-t-il ?

Mes petits rituels - semaine 26 jour 2

- Complète avec « où » ou « ou ».

Nadia prend toujours une carte _____ un plan, _____ qu'elle aille.

- Écris sous la forme d'une fraction décimale en centième.

0,23 :


2,03 :

0,017 :

4,8 :

- Résous le problème suivant.

Samuel achète un chausson aux pommes au prix de 1,45 €. Quel prix paiera-t-il pour trois chaussons ?



Mes petits rituels - semaine 26 jour 2

- Complète avec « où » ou « ou ».

Nadia prend toujours une carte _____ un plan, _____ qu'elle aille.

- Écris sous la forme d'une fraction décimale en centième.

0,23 :


2,03 :

0,017 :

4,8 :

- Résous le problème suivant.

Samuel achète un chausson aux pommes au prix de 1,45 €. Quel prix paiera-t-il pour trois chaussons ?



Mes petits rituels - semaine 26 jour 2

- Complète avec « où » ou « ou ».

Nadia prend toujours une carte _____ un plan, _____ qu'elle aille.

- Écris sous la forme d'une fraction décimale en centième.

0,23 :


2,03 :

0,017 :

4,8 :

- Résous le problème suivant.

Samuel achète un chausson aux pommes au prix de 1,45 €. Quel prix paiera-t-il pour trois chaussons ?



Mes petits rituels - semaine 26 jour 2

- Complète avec « où » ou « ou ».

Nadia prend toujours une carte _____ un plan, _____ qu'elle aille.

- Écris sous la forme d'une fraction décimale en centième.

0,23 :


2,03 :

0,017 :

4,8 :

- Résous le problème suivant.

Samuel achète un chausson aux pommes au prix de 1,45 €. Quel prix paiera-t-il pour trois chaussons ?



Mes petits rituels - semaine 26 jour 3

- Trouve 3 mots commençant par le préfixe

multi :

télé:

- Conjugue le verbe ennuyer au présent

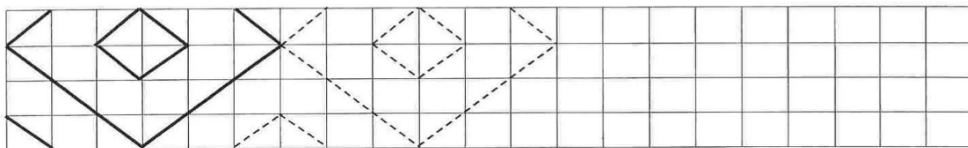
J'

Il

Nous

Elles

- Complète la frise et colorie-la (facultatif)



Mes petits rituels - semaine 26 jour 3

- Trouve 3 mots commençant par le préfixe

multi :

télé:

- Conjugue le verbe ennuyer au présent

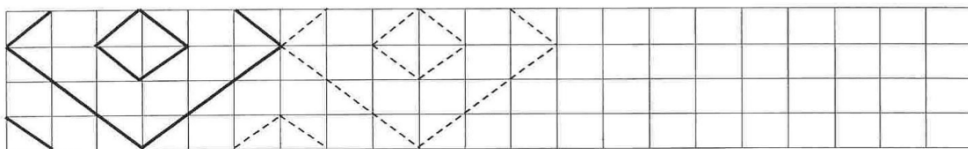
J'

Il

Nous

Elles

- Complète la frise et colorie-la (facultatif)



Mes petits rituels - semaine 26 jour 3

- Trouve 3 mots commençant par le préfixe

multi :

télé:

- Conjugue le verbe ennuyer au présent

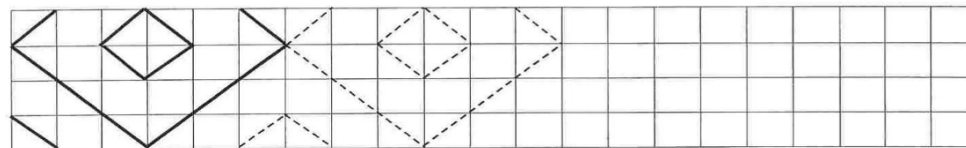
J'

Il

Nous

Elles

- Complète la frise et colorie-la (facultatif)



Mes petits rituels - semaine 26 jour 3

- Trouve 3 mots commençant par le préfixe

multi :

télé:

- Conjugue le verbe ennuyer au présent

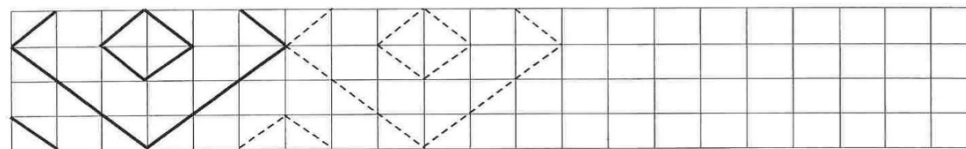
J'

Il

Nous

Elles

- Complète la frise et colorie-la (facultatif)



Mes petits rituels - semaine 27 jour 1

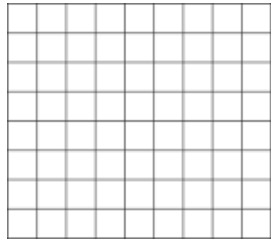


- Souligne, indique la fonction des différents groupes de mots
- indique la classe des mots indiqués

Dans la bibliothèque, les élèves préfèrent lire ces bande-dessinées.

dans : ces : lire :

- Pose et calcule : $912,7 - 567,86$
- Lis le texte et réponds à la question. Surligne les indices du texte.



La porte s'ouvre et Andréa entre à l'intérieur.

Il appuie sur le bouton 3 car c'est l'étage de sa tante. **Dans quoi est-il entré ?**

.....

Mes petits rituels - semaine 27 jour 1




- Souligne, indique la fonction des différents groupes de mots
- indique la classe des mots indiqués

Dans la bibliothèque, les élèves préfèrent lire ces bande-dessinées.

dans : ces : lire :

- Pose et calcule : $912,7 - 567,86$
- Lis le texte et réponds à la question. Surligne les indices du texte.



La porte s'ouvre et Andréa entre à l'intérieur.

Il appuie sur le bouton 3 car c'est l'étage de sa tante. **Dans quoi est-il entré ?**

.....

Mes petits rituels - semaine 27 jour 1




- Souligne, indique la fonction des différents groupes de mots
- indique la classe des mots indiqués

Dans la bibliothèque, les élèves préfèrent lire ces bande-dessinées.

dans : ces : lire :

- Pose et calcule : $912,7 - 567,86$
- Lis le texte et réponds à la question. Surligne les indices du texte.



La porte s'ouvre et Andréa entre à l'intérieur.

Il appuie sur le bouton 3 car c'est l'étage de sa tante. **Dans quoi est-il entré ?**

.....

Mes petits rituels - semaine 27 jour 1




- Souligne, indique la fonction des différents groupes de mots
- indique la classe des mots indiqués

Dans la bibliothèque, les élèves préfèrent lire ces bande-dessinées.

dans : ces : lire :

- Pose et calcule : $912,7 - 567,86$
- Lis le texte et réponds à la question. Surligne les indices du texte.



La porte s'ouvre et Andréa entre à l'intérieur.

Il appuie sur le bouton 3 car c'est l'étage de sa tante. **Dans quoi est-il entré ?**

.....

Mes petits rituels - semaine 27 jour 2



- Complète avec « la », « là » ou « l'a ».


Ilvu assise -haut lors de randonnée .

- Range dans l'ordre croissant.

0,7 / 0,65 / 0,549 / 0,6 / 0,55 / 0,723

- Résous le problème suivant.

Calcule la somme de la moitié du triple de 3 et du double du quart de vingt-quatre. **Le résultat est :**



Mes petits rituels - semaine 27 jour 2



- Complète avec « la », « là » ou « l'a ».


Ilvu assise -haut lors de randonnée .

- Range dans l'ordre croissant.

0,7 / 0,65 / 0,549 / 0,6 / 0,55 / 0,723

- Résous le problème suivant.

Calcule la somme de la moitié du triple de 3 et du double du quart de vingt-quatre. **Le résultat est :**



Mes petits rituels - semaine 27 jour 2



- Complète avec « la », « là » ou « l'a ».


Ilvu assise -haut lors de randonnée .

- Range dans l'ordre croissant.

0,7 / 0,65 / 0,549 / 0,6 / 0,55 / 0,723

- Résous le problème suivant.

Calcule la somme de la moitié du triple de 3 et du double du quart de vingt-quatre. **Le résultat est :**



Mes petits rituels - semaine 27 jour 2



- Complète avec « la », « là » ou « l'a ».


Ilvu assise -haut lors de randonnée .

- Range dans l'ordre croissant.

0,7 / 0,65 / 0,549 / 0,6 / 0,55 / 0,723

- Résous le problème suivant.

Calcule la somme de la moitié du triple de 3 et du double du quart de vingt-quatre. **Le résultat est :**



Mes petits rituels - semaine 27 jour 3

- Trouve 3 mots se terminant par le suffixe :

-esse :

-ment:

- Conjugue le verbe être au futur .

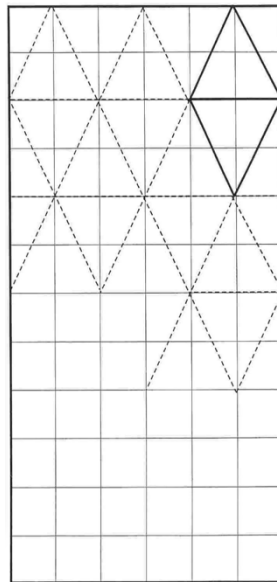
Tu

Il

Vous

Elles

- Complète la frise et colorie-la (facultatif)



Mes petits rituels - semaine 27 jour 3

- Trouve 3 mots se terminant par le suffixe :

-esse :

-ment:

- Conjugue le verbe être au futur .

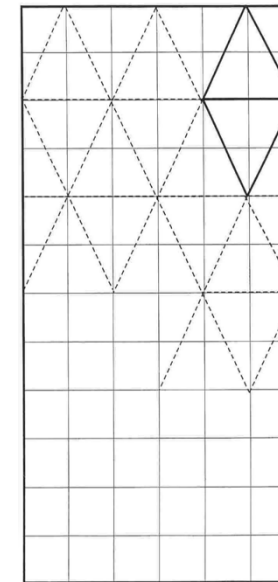
Tu

Il

Vous

Elles

- Complète la frise et colorie-la (facultatif)



Mes petits rituels - semaine 27 jour 3

- Trouve 3 mots se terminant par le suffixe :

-esse :

-ment:

- Conjugue le verbe être au futur .

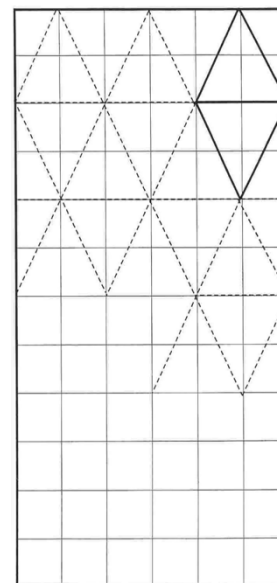
Tu

Il

Vous

Elles

- Complète la frise et colorie-la (facultatif)



Mes petits rituels - semaine 27 jour 3

- Trouve 3 mots se terminant par le suffixe :

-esse :

-ment:

- Conjugue le verbe être au futur .

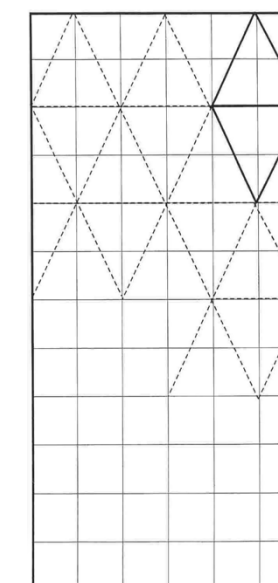
Tu

Il

Vous

Elles

- Complète la frise et colorie-la (facultatif)



Mes petits rituels - semaine 28 jour 1

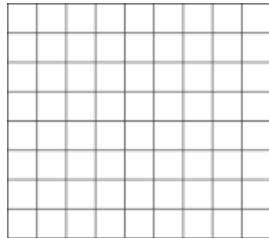


- Souligne, indique la fonction des différents groupes de mots
- indique la classe des mots indiqués

Ces parents ne se ménagent pas pour offrir le meilleur à leurs enfants.

ces: pour : leurs :

- Pose et calcule : $856,28 - 86,987$
- Lis le texte et réponds à la question. Surligne les indices du texte.



Nous avons payé notre ticket et passons au vestiaire. Un monsieur nous donne les patins et nous mettons nos gants avant de rentrer. Où sommes-nous ?

.....

Mes petits rituels - semaine 28 jour 1




- Souligne, indique la fonction des différents groupes de mots
- indique la classe des mots indiqués

Ces parents ne se ménagent pas pour offrir le meilleur à leurs enfants.

ces: pour : leurs :

- Pose et calcule : $856,28 - 86,987$
- Lis le texte et réponds à la question. Surligne les indices du texte.



Nous avons payé notre ticket et passons au vestiaire. Un monsieur nous donne les patins et nous mettons nos gants avant de rentrer. Où sommes-nous ?

.....

Mes petits rituels - semaine 28 jour 1




- Souligne, indique la fonction des différents groupes de mots
- indique la classe des mots indiqués

Ces parents ne se ménagent pas pour offrir le meilleur à leurs enfants.

ces: pour : leurs :

- Pose et calcule : $856,28 - 86,987$
- Lis le texte et réponds à la question. Surligne les indices du texte.



Nous avons payé notre ticket et passons au vestiaire. Un monsieur nous donne les patins et nous mettons nos gants avant de rentrer. Où sommes-nous ?

.....

Mes petits rituels - semaine 28 jour 1




- Souligne, indique la fonction des différents groupes de mots
- indique la classe des mots indiqués

Ces parents ne se ménagent pas pour offrir le meilleur à leurs enfants.

ces: pour : leurs :

- Pose et calcule : $856,28 - 86,987$
- Lis le texte et réponds à la question. Surligne les indices du texte.



Nous avons payé notre ticket et passons au vestiaire. Un monsieur nous donne les patins et nous mettons nos gants avant de rentrer. Où sommes-nous ?

.....

Mes petits rituels - semaine 28 jour 2

- Complète avec « s'en », « sans » ou « sang ».


Bonjour _____, il _____ va _____ dire au-revoir.

- Range dans l'ordre décroissant.

89,78 / 98,78 / 5,78 / 89,7 / 4,87

- Résous le problème suivant.

Calcule la somme du tiers du quintuple de 3 et du double du tiers de trente. **Le résultat est :**



Mes petits rituels - semaine 28 jour 2

- Complète avec « s'en », « sans » ou « sang ».


Bonjour _____, il _____ va _____ dire au-revoir.

- Range dans l'ordre décroissant.

89,78 / 98,78 / 5,78 / 89,7 / 4,87

- Résous le problème suivant.

Calcule la somme du tiers du quintuple de 3 et du double du tiers de trente. **Le résultat est :**



Mes petits rituels - semaine 28 jour 2

- Complète avec « s'en », « sans » ou « sang ».


Bonjour _____, il _____ va _____ dire au-revoir.

- Range dans l'ordre décroissant.

89,78 / 98,78 / 5,78 / 89,7 / 4,87

- Résous le problème suivant.

Calcule la somme du tiers du quintuple de 3 et du double du tiers de trente. **Le résultat est :**



Mes petits rituels - semaine 28 jour 2

- Complète avec « s'en », « sans » ou « sang ».


Bonjour _____, il _____ va _____ dire au-revoir.

- Range dans l'ordre décroissant.

89,78 / 98,78 / 5,78 / 89,7 / 4,87

- Résous le problème suivant.

Calcule la somme du tiers du quintuple de 3 et du double du tiers de trente. **Le résultat est :**



Mes petits rituels - semaine 28 jour 3

- Trouve un mot du langage courant pour remplacer ces mots familiers.

tignasse : fringue :


bouffer : gosse :

- Conjugué le verbe appeler au présent.

J' On

Nous Ils

- Complète la frise et colorie-la (facultatif)



Mes petits rituels - semaine 28 jour 3

- Trouve un mot du langage courant pour remplacer ces mots familiers.

tignasse : fringue :


bouffer : gosse :

- Conjugué le verbe appeler au présent.

J' On

Nous Ils

- Complète la frise et colorie-la (facultatif)



Mes petits rituels - semaine 28 jour 3

- Trouve un mot du langage courant pour remplacer ces mots familiers.

tignasse : fringue :


bouffer : gosse :

- Conjugué le verbe appeler au présent.

J' On

Nous Ils

- Complète la frise et colorie-la (facultatif)



Mes petits rituels - semaine 28 jour 3

- Trouve un mot du langage courant pour remplacer ces mots familiers.

tignasse : fringue :


bouffer : gosse :

- Conjugué le verbe appeler au présent.

J' On

Nous Ils

- Complète la frise et colorie-la (facultatif)



Mes petits rituels - semaine 29 jour 1




- Souligne, indique la fonction des différents groupes de mots
- indique la classe des mots indiqués

Chaque semaine, il joue au loto pour gagner le gros lot.

chaque: pour : gros :

- Pose et calcule : $639,4 \times 8$
- Lis le texte et réponds à la question. Surligne les indices du texte.



Mamy pose la nappe sur l'herbe et sort les assiettes en carton. Elle a préparé des salades et a ouvert un paquet de chips. **Qu'a-t-elle organisée ?**

.....

Mes petits rituels - semaine 29 jour 1




- Souligne, indique la fonction des différents groupes de mots
- indique la classe des mots indiqués

Chaque semaine, il joue au loto pour gagner le gros lot.

chaque: pour : gros :

- Pose et calcule : $639,4 \times 8$
- Lis le texte et réponds à la question. Surligne les indices du texte.



Mamy pose la nappe sur l'herbe et sort les assiettes en carton. Elle a préparé des salades et a ouvert un paquet de chips. **Qu'a-t-elle organisée ?**

.....

Mes petits rituels - semaine 29 jour 1

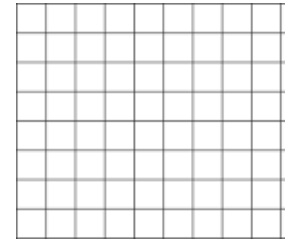


- Souligne, indique la fonction des différents groupes de mots
- indique la classe des mots indiqués

Chaque semaine, il joue au loto pour gagner le gros lot.

chaque: pour : gros :

- Pose et calcule : $639,4 \times 8$
- Lis le texte et réponds à la question. Surligne les indices du texte.



Mamy pose la nappe sur l'herbe et sort les assiettes en carton. Elle a préparé des salades et a ouvert un paquet de chips. **Qu'a-t-elle organisée ?**

.....

Mes petits rituels - semaine 29 jour 1




- Souligne, indique la fonction des différents groupes de mots
- indique la classe des mots indiqués

Chaque semaine, il joue au loto pour gagner le gros lot.

chaque: pour : gros :

- Pose et calcule : $639,4 \times 8$
- Lis le texte et réponds à la question. Surligne les indices du texte.



Mamy pose la nappe sur l'herbe et sort les assiettes en carton. Elle a préparé des salades et a ouvert un paquet de chips. **Qu'a-t-elle organisée ?**

.....

Mes petits rituels - semaine 29 jour 2

- Complète avec « leur » ou « leurs ».

Tu fais plaisir maintenant qu'ils ont eu résultats.

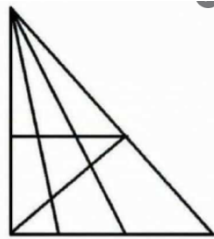
- Compare.

87,9.....87,543 2,567.....10,6 42,8.....42,79
3,5.....3,500 6,07.....6,7 23,76.....23,761

- Résous le problème suivant.

Combien de triangles y-a-t-il dans la figure ci-contre.

Il y a triangles.



Mes petits rituels - semaine 29 jour 2

- Complète avec « leur » ou « leurs ».

Tu fais plaisir maintenant qu'ils ont eu résultats.

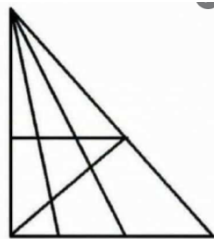
- Compare.

87,9.....87,543 2,567.....10,6 42,8.....42,79
3,5.....3,500 6,07.....6,7 23,76.....23,761

- Résous le problème suivant.

Combien de triangles y-a-t-il dans la figure ci-contre.

Il y a triangles.



Mes petits rituels - semaine 29 jour 2

- Complète avec « leur » ou « leurs ».

Tu fais plaisir maintenant qu'ils ont eu résultats.

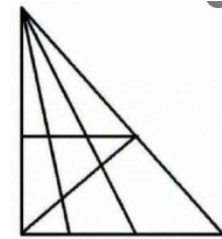
- Compare.

87,9.....87,543 2,567.....10,6 42,8.....42,79
3,5.....3,500 6,07.....6,7 23,76.....23,761

- Résous le problème suivant.

Combien de triangles y-a-t-il dans la figure ci-contre.

Il y a triangles.



Mes petits rituels - semaine 29 jour 2

- Complète avec « leur » ou « leurs ».

Tu fais plaisir maintenant qu'ils ont eu résultats.

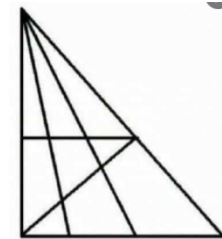
- Compare.

87,9.....87,543 2,567.....10,6 42,8.....42,79
3,5.....3,500 6,07.....6,7 23,76.....23,761

- Résous le problème suivant.

Combien de triangles y-a-t-il dans la figure ci-contre.

Il y a triangles.



Mes petits rituels - semaine 29 jour 3

- Trouve un mot du langage soutenu pour remplacer ces mots courants.

bruit : perdre :

mourir : voler :

- Conjugue le verbe crier à l'imparfait .

J Tu

Nous Ils

- Complète la frise et colorie-la (facultatif)



Mes petits rituels - semaine 29 jour 3

- Trouve un mot du langage soutenu pour remplacer ces mots courants.

bruit : perdre :


mourir : voler :

- Conjugue le verbe crier à l'imparfait .

J Tu

Nous Ils

- Complète la frise et colorie-la (facultatif)



Mes petits rituels - semaine 29 jour 3

- Trouve un mot du langage soutenu pour remplacer ces mots courants.

bruit : perdre :


mourir : voler :

- Conjugue le verbe crier à l'imparfait .

J Tu

Nous Ils

- Complète la frise et colorie-la (facultatif)



Mes petits rituels - semaine 29 jour 3

- Trouve un mot du langage soutenu pour remplacer ces mots courants.

bruit : perdre :


mourir : voler :

- Conjugue le verbe crier à l'imparfait .

J Tu

Nous Ils

- Complète la frise et colorie-la (facultatif)



Mes petits rituels - semaine 30 jour 1




- Souligne, indique la fonction des différents groupes de mots
- indique la classe des mots indiqués

L'été pointe le bout de son nez le 21 juin, chaque année.

l': bout: de :

- Pose et calcule : $1764 : 5$
- Lis le texte et réponds à la question. Surligne les indices du texte.



Julie remonte la selle et met son pied sur la pédale. « Attends, dit son père. Tu as oublié de mettre ton casque. » **Que va faire Julie ?**

Mes petits rituels - semaine 30 jour 1




- Souligne, indique la fonction des différents groupes de mots
- indique la classe des mots indiqués

L'été pointe le bout de son nez le 21 juin, chaque année.

l': bout: de :

- Pose et calcule : $1764 : 5$
- Lis le texte et réponds à la question. Surligne les indices du texte.



Julie remonte la selle et met son pied sur la pédale. « Attends, dit son père. Tu as oublié de mettre ton casque. » **Que va faire Julie ?**

Mes petits rituels - semaine 30 jour 1

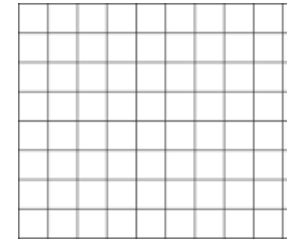


- Souligne, indique la fonction des différents groupes de mots
- indique la classe des mots indiqués

L'été pointe le bout de son nez le 21 juin, chaque année.

l': bout: de :

- Pose et calcule : $1764 : 5$
- Lis le texte et réponds à la question. Surligne les indices du texte.



Julie remonte la selle et met son pied sur la pédale. « Attends, dit son père. Tu as oublié de mettre ton casque. » **Que va faire Julie ?**

Mes petits rituels - semaine 30 jour 1




- Souligne, indique la fonction des différents groupes de mots
- indique la classe des mots indiqués

L'été pointe le bout de son nez le 21 juin, chaque année.

l': bout: de :

- Pose et calcule : $1764 : 5$
- Lis le texte et réponds à la question. Surligne les indices du texte.



Julie remonte la selle et met son pied sur la pédale. « Attends, dit son père. Tu as oublié de mettre ton casque. » **Que va faire Julie ?**

Mes petits rituels - semaine 30 jour 2

- Complète avec « é » ou « er ».

Tu peux arrêter..... de chercher....., j'ai déjà trouvé..... !

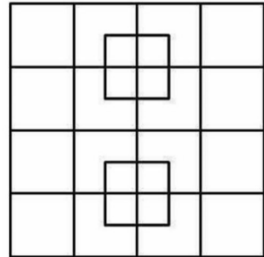
- Compare.

26/100.....2,6 93/100.....0,093 97/10.....9,7
2,5.....25/100 0,58.....58/1000 0,83.....83/100

- Résous le problème suivant.

Combien de carrés y-a-t-il dans la figure ci-contre.

Il y a carrés.



Mes petits rituels - semaine 30 jour 2

- Complète avec « é » ou « er ».

Tu peux arrêter..... de chercher....., j'ai déjà trouvé..... !

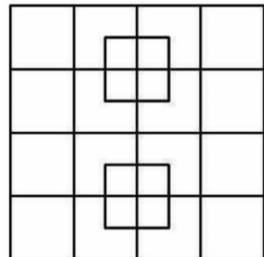
- Compare.

26/100.....2,6 93/100.....0,093 97/10.....9,7
2,5.....25/100 0,58.....58/1000 0,83.....83/100

- Résous le problème suivant.

Combien de carrés y-a-t-il dans la figure ci-contre.

Il y a carrés.



Mes petits rituels - semaine 30 jour 2

- Complète avec « é » ou « er ».

Tu peux arrêter..... de chercher....., j'ai déjà trouvé..... !

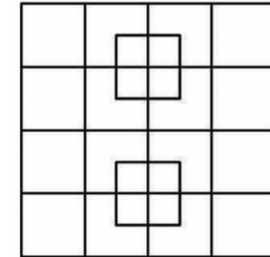
- Compare.

26/100.....2,6 93/100.....0,093 97/10.....9,7
2,5.....25/100 0,58.....58/1000 0,83.....83/100

- Résous le problème suivant.

Combien de carrés y-a-t-il dans la figure ci-contre.

Il y a carrés.



Mes petits rituels - semaine 30 jour 2

- Complète avec « é » ou « er ».

Tu peux arrêter..... de chercher....., j'ai déjà trouvé..... !

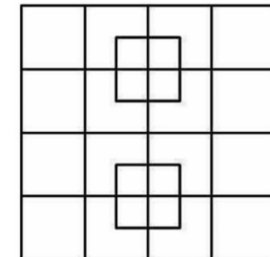
- Compare.

26/100.....2,6 93/100.....0,093 97/10.....9,7
2,5.....25/100 0,58.....58/1000 0,83.....83/100

- Résous le problème suivant.

Combien de carrés y-a-t-il dans la figure ci-contre.

Il y a carrés.



Mes petits rituels - semaine 30 jour 3

- Indique le niveau de langage des mots suivants.

pogron : se dévêtir :

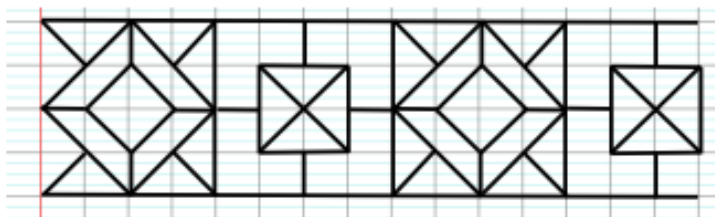
manger : bagnole :

- Conjuge le verbe comprendre au présent.

Je Elle

Nous Ils

- Reproduis la frise et colorie-la (facultatif)



Mes petits rituels - semaine 30 jour 3

- Indique le niveau de langage des mots suivants.

pogron : se dévêtir :

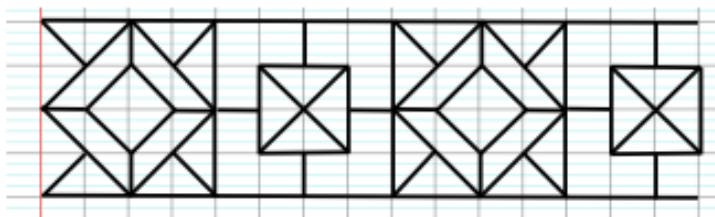
manger : bagnole :

- Conjuge le verbe comprendre au présent.

Je Elle

Nous Ils

- Reproduis la frise et colorie-la (facultatif)



Mes petits rituels - semaine 30 jour 3

- Indique le niveau de langage des mots suivants.

pogron : se dévêtir :

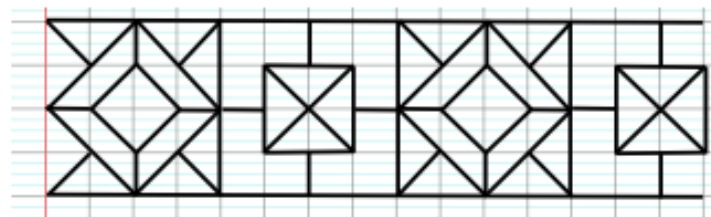
manger : bagnole :

- Conjuge le verbe comprendre au présent.

Je Elle

Nous Ils

- Reproduis la frise et colorie-la (facultatif)



Mes petits rituels - semaine 30 jour 3

- Indique le niveau de langage des mots suivants.

pogron : se dévêtir :

manger : bagnole :

- Conjuge le verbe comprendre au présent.

Je Elle

Nous Ils

- Reproduis la frise et colorie-la (facultatif)

